



**Tema : 3. Peduli Terhadap Mahluk Hidup**      **Nama Siswa :** \_\_\_\_\_  
**Kelas : IV (Empat)**

**Pilihlah pada huruf a, b, c atau d, pada jawaban yang paling benar!**

## 1. PPK<sub>n</sub>

Setiap orang memiliki hak dan kewajiban. Hak dan kewajiban harus dilaksanakan secara seimbang, tetapi dalam pelaksanaannya ada yang harus didahulukan. Kita harus mendahulukan ..... dari pada .....

- a. Hak - kewajiban  
b. Keinginan - kewajiban  
c. Kewajiban - hak  
d. Kewajiban - kemauan

## 2. IPA

Bagian-bagian tumbuhan meliputi akar, batang, daun dan buah. Bagian tumbuhan yang berfungsi untuk sebagai tempat berlangsungnya fotosintesis adalah .....

- a. Biji                      b. Bunga                      c. Daun                      d. Akar

### 3. IPS

Lingkungan harus dijaga agar tetap lestari, karena di lingkungan itulah kita mendapatkan sumber daya alam. Di bawah ini contoh sikap cinta lingkungan yaitu .....

- Membuang sampah ke sungai
- Memanfaatkan sumber daya alam dengan boros
- Menimbun sampah plastik ke dalam tanah
- Membersihkan lingkungan

#### 4. SBdP



Pada gambar diatas menggunakan kreasi ....

- a. Kolase      b. Mozaik      c. Kriya      d. Batik

Berilah tanda ceklis (✓) jika benar, pada pernyataan dibawah ini!

5. **PPKn**

Setiap orang memiliki hak dan kewajiban. Hak dan kewajiban harus dilaksanakan secara seimbang, tetapi dalam pelaksanaannya ada yang harus didahulukan. Kita harus mendahulukan kewajiban dari pada hak.

Kewajiban manusia terhadap hewan yaitu :

Pernyataan	Benar/Salah
Memberi makan dan minum hewan peliharaan secara teratur	
Memelihara hewan-hewan yang dilindungi pemerintah	
Menjaga dan memelihara kandang hewan peliharaan/ternak.	
Melindungi dan tidak merusak tempat hidup hewan yang ada dilingkungan sekitar	

6. **Bhs Indonesia.**

Narasumber adalah seseorang yang memberikan atau mengetahui secara jelas tentang suatu informasi, atau menjadi sumber informasi untuk kepentingan pemberitaan di media massa. Biasanya informasi yang didapat dari narasumber diperoleh dari wawancara dengan memintakan pendapatnya mengenai suatu masalah atau isu yang sedang berkembang.

Berikut pernyataan yang sesuai dengan teks diatas adalah

Pernyataan	Benar/Salah
Narasumber sebagai pemberi informasi yang jelas	
Narasumber Sebagai sumber informasi	
Narasumber mengetahui secara jelas tentang informasi.	
Narasumber tidak diperlukan dalam suatu penelitian	

7. **IPA**

Setiap jenis hewan memiliki tempat hidup dengan karakteristik masing-masing. Tempat hidup tergantung kepada ciri-ciri khusus yang dimiliki oleh hewan tersebut. Ciri-ciri khusus hewan mempunyai hubungan yang erat dengan karakteristik tempat hidupnya.

Berikut pernyataan yang sesuai dengan ciri-ciri cicak.

Pernyataan	Benar/Salah
Mempunyai perekat pada telapak kakinya, sehingga dapat merayap di dinding atau langit-langit rumah	
Memiliki lidah yang panjang dan lengket, sehingga dapat menangkap serangga	
Mempunyai ukuran rata-rata 10 hingga 15 cm.	
Dapat memutuskan ekornya untuk melindungi diri	

## 8. IPS

Dataran rendah adalah permukaan bumi yang datar dengan ketinggian kurang dari 200 meter dari atas permukaan laut. Pada umumnya dataran rendah berada disekitar pesisir pantai. Tumbuhan hijau membuat segar udara karena menghasilkan oksigen.

Yang termasuk ciri-ciri dataran rendah adalah :

Ciri-ciri dataran rendah	Benar/Salah
Ketinggian kurang dari 200 m	
Suhu udara cenderung sejuk	
Dimanfaatkan untuk perkebunan tebu.	
Kelembaban udara tinggi	

Pasangkanlah kedua pernyataan dibawah ini dengan pasangan yang tepat!

## 9. PPKn

Agar hasil wawancara maksimal, maka pewancara perlu memperhatikan hal-hal penting, baik sebelum melakukan wawancara, ketika melakukan wawancara, maupun setelah melakukan wawancara.

Hal-hal	Sikap
Sebelum melakukan wawancara	Mulai wawancara dengan pertanyaan yang ringan.
Ketika melakukan wawancara	Sampaikan permohonan maaf jika selama wawancara ada hal yang kurang berkenan
Setelah melakukan wawancara	Tunjukkan kesan yang baik, misalnya datang tepat waktu

## 10. Bhs Indonesia









Kata tanya adalah kata yang dipakai dalam kalimat tanya untuk menanyakan sesuatu, baik itu orang/benda, perbuatan/tindakan, keadaan/situasi, dan lain sebagainya. Sedangkan kalimat tanya adalah kalimat yang didalamnya terkandung sebuah pertanyaan kepada pihak lain, yang diajukan untuk memperoleh jawaban dari pihak yang ditanya. Namun terkadang kalimat tanya juga tidak mengharuskan sebuah jawaban karena hanya bersifat memastikan sesuatu hal.

Berikut kata tanya dan penggunaannya :

Kata Tanya	Penggunaan
Apa	Waktu
Berapa	Tempat
Dimana	Jumlah
Kapan	Sebab

### 11. IPA

Beberapa dari bagian tumbuhan tersebut berfungsi untuk membuat tumbuhan tersebut tetap lestari dan seimbang di alam. contoh bagian tumbuhan tersebut adalah biji. Biji merupakan cikal bakal bagi sebagian tumbuhan untuk terus bertahan sehingga terjaga kelestariannya.

Bagian tumbuhan		Fungsinya
Akar		 sebagai alat perkembangbiakan tumbuhan biji
Batang		 sebagai bagian yang mengokohkan tumbuhan
Daun		 mengedarkan mineral dan air yang diserap akar,
Buah		 Tempat berlangsungnya fotosintesis

### 12. IPS

Tumbuhan di sekitar kita memberi banyak manfaat bagi manusia. Misalnya tumbuhan jenis obat-obatan : kencur, kunyit dan jahe.

Tumbuhan Obat		Manfaatnya
Kencur		 Digunakan sebagai bahan minuman penghangat tubuh
Kunyit		 Digunakan mengobati berbagai macam penyakit
Jahe		 Digunakan sebagai bahan bumbu dalam masakan

Isilah titik-titik dibawah ini dengan jawaban yang benar!

### 13. PPKn

Membuang sampah sembarangan dapat mengurangi keindahan dan menyebabkan berbagai permasalahan lingkungan yang lain. sikap kita terhadap teman yang membuang sampah sembarangan adalah .....

### 14. Bahasa Indonesia

Perhatikan dialog wawancara berikut!

Pewancara : “ ..... bapak menemukan dompet tersebut?”

Narasumber : “kemarin sore saya menemukan dompet tersebut.”

Kata tanya yang tepat untuk jawaban di atas adalah .....

### 15. IPS

sumber daya alam adalah segala sesuatu yang tersedia di alam dan digunakan untuk manusia. Kegiatan manusia adalah faktor utama langkanya sumber daya alam. Kegiatan manusia yang menyebabkan terganggunya keseimbangan alam adalah .....



**16. SBdP**

Kolase, montase, dan mosaik pada dasarnya merupakan sebuah keterampilan seni rupa dengan teknik tempel yang sering berada di berbagai karya seni atau dekorasi rumah.

Montase adalah karya seni tempel yang menggabungkan beberapa gambar jadi dari sumber yang berbeda disusun, sehingga menjadi karya seni yang baru.

Kolase adalah karya seni tempel yang terbuat dari berbagai macam material berbeda yang kemudian ditempel menjadi sebuah gambar unik.

Mozaik atau mosaik adalah seni menggabungkan sebuah kepingan-kepingan barang menjadi sebuah gambar atau pola yang baru.

Persamaan dari karya seni kolase, mozaik dan montase ada pada teknikya yaitu teknik .....

**Jawablah pertanyaan dibawah ini dengan jawaban yang benar!**

**17. Bahasa Indonesia**

Wawancara adalah merupakan percakapan antara dua orang atau lebih dan berlangsung antara narasumber dan pewawancara.

Apa saja ciri-ciri pertanyaan wawancara yang baik?

Jawab :

.....

.....

.....

...

**18. IPA**



Sebutkan tiga ciri-ciri hewan laba-laba!

Jawab :

.....

.....

.....

...

**19. IPS**

Keseimbangan alam harus dijaga agar tetap lestari.

Sebutkan 3 upaya pelestarian lingkungan alam dan sumber daya yang terkandung di dalamnya!

Jawab :

.....

.....

.....

...

**20. SBdP**

Karya montase dihasilkan dari menggabungkan beberapa gambar yang sudah jadi. Gambar-gambar tersebut dipadukan hingga menghasilkan satu gambar baru. Biasanya gambar diambil dari majalah atau koran bekas.

Tuliskan langkah-langkah membuat karya seni montase?

Jawab :

.....

.....

..