



**PEMERINTAH KABUPATEN SINJAI  
DINAS PENDIDIKAN**

**SDN NO. 94 KANRUNG KECAMATAN SINJAI TENGAH**

*Alamat : Jl. Petta Loppo No. B.47 Desa Kanrung Kec. Sinjai Tengah Kode Pos. 92652*

**PENILAIAN AKHIR SEMESTER GANJIL  
TAHUN PELAJARAN 2022/2023**

Nama :  
Tema : 5 / Wirausaha  
Kelas/Semester : VI / I  
Waktu : 90 Menit

**A. PILIHAN GANDA**

**Berilah tanda silang (x) pada huruf a,b,c, dan d pada jawaban yang paling benar !**

1. Magnet mempunyai 2 kutub yaitu kutub utara dan kutub selatan



Sifat magnet berdasarkan gambar diatas adalah.....

- A. Memiliki 2 buah kutub
  - B. Memiliki daya tarik
  - C. Kutub senama tolak menolak
  - D. Kutub tak senama tarik menarik
2. Keragaman sosial budaya adalah kondisi masyarakat dengan latar belakang sosial dan budaya membawa sejumlah manfaat bagi masyarakat di berbagai bidang. Manfaat keberagaman sosial budaya bagi masyarakat dibidang sosial adalah.....
- A. Memperkaya budaya nasional
  - B. Sebagai sumber pendapatan pariwisata
  - C. Tali persaudaraan dengan masyarakat semakin kuat
  - D. Menarik wisata asing

**Perhatikan poster berikut untuk menjawab soal nomor 3 dan 4**



3. Informasi yang didapat setelah membaca poster tersebut adalah .....
  - A. Berputus asa dan bermalas-malasan
  - B. Berkreasi dan inovatif dalam menggambar
  - C. Semangat belajar dimasa pandemi
  - D. Jangan berhenti belajar dan terus semangat dalam berkarya
4. Berdasarkan gambar di atas, fungsi poster yaitu menyampaikan pesan secara singkat menggunakan .....
  - A. Gambar
  - B. Suara
  - C. Kata
  - D. Kata dan gambar
5. Perhatikan gambar berikut!



Jenis poster yang berisi imbauan kepada masyarakat pada gambar di atas, termasuk poster .....

- A. Niaga
- B. Kegiatan
- C. Layanan masyarakat
- D. komersial

## B. PILIHAN GANDA KOMPLEKS

FORMULIR PENDAFTARAN LOMBA CERDAS CERMAT	
1.	Identitas diri
a.	Nama Lengkap :
b.	Umur :
c.	Kelas :
d.	Alamat :
	Kota :
	Kode Pos :
e.	No.Telepon Rumah :
f.	Nama Sekolah :
g.	Alamat Sekolah :
h.	No.Telepon Sekolah :
i.	No.Kartu Pelajar :

2. Jenis lomba yang akan diikuti :  
 .....  
 .....  
 Tanda tangan,  
 ( Nama lengkap )  
 Catatan : Formulir yang sudah ditandatangani diserahkan kepada panitia di masing – masing stand.

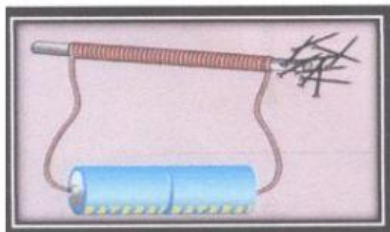
6. Berilah tanda BENAR atau SALAH pada jawaban yang termasuk identitas diri pada formulir di atas adalah!

	Nama lengkap, Kelas , alamat,Umur
	Nama Lengkap>Nama Sekolah , alamat sekolah
	Nama Lengkap, Nama orang tua , umur,status
	Nama Lengkap>Nama sekolah , alamat sekolah, no telepon sekolah

7. Bendera ASEAN melambangkan ASEAN yang stabil, penuh perdamaian, bersatu, dan dinamis. Adapun lambang ASEAN berada di tengah bendera ASEAN, sedangkan warna bendera dan lambang ialah biru, merah, putih, dan kuning. Masing – masing mewakili warna dasar setiap bendera negara anggota ASEAN.  
 Berilah tanda BENAR atau SALAH pada warna bendera yang terdapat pada lambang ASEAN !

	Biru
	Merah
	Hitam
	Kuning

- 8.



No	Pernyataan	Benar	Salah
1	Kekuatan magnet paling besar terletak di kutub		
2	Magnet yang dibuat dengan cara mengalirkan arus listrik disebut magnetik		
3	Magnet yang dibuat dengan cara melilitkan kawat kebatang besi disebut elektromagnetik		

### C. MENJODOHKAN


9. Salah satu sifat – sifat magnet dapat menarik benda – benda tertentu.

Tariklah benda ke kolom yang berwarna kuning sesuai dengan jawaban yang sesuai


Pernyataan	Jawab
1. Contoh benda yang ditarik magnet <div><div></div><div></div></div>	<div>a. jarum</div> <div>b. kayu</div>
2. Contoh benda yang tidak dapat ditarik magnet <div><div></div><div></div></div>	<div>c. plastik</div> <div>d. paku</div>

10. Hubungkanlah pernyataan yang ada di lajur kiri dengan jawaban di lajur kanan.



 Sumatra Barat




 Kalimantan Barat



 Irian



 Sulawesi Selatan

11. Perhatikan gambar penjual batik dengan pembeli berikut ini!



Jodohkanlah beberapa pernyataan berikut berdasarkan gambar diatas!



1	Kita harus bangga saat membeli dan memakai produk	<input type="radio"/>
2	Manfaat bersikap jujur dalam berdagang dapat mendatangkan	<input type="radio"/>
3	Dapat dipercayai orang lain merupakan manfaat dari	<input type="radio"/>

<input type="radio"/>	tanggung jawab
<input type="radio"/>	dalam negeri
<input type="radio"/>	keuntungan

#### D. ISIAN

**Isilah titik – titik di bawah ini dengan jawaban yang tepat !**

12. Masyarakat Indonesia sangatlah majemuk , karena terdiri atas keaneka ragaman kehidupan sosial dan budaya.  
Bhinneka tunggal ika adalah semboyang bangsa . . . .
13. Media publikasi yang terdiri atas tulisan, gambar kombinasi antar keduanya dengan tujuan memberikan informasi kepada khalayak ramai.  
Pernyataan di atas disebut . . . .

**Perhatikan gambar berikut untuk menjawab nomor 14 – 16 !**



14. Program wajib belajar 12 tahun merupakan upaya pemerintah untuk mencerdaskan bangsa di bidang .....
15. Manfaat adanya pabrik teh bagi ekonomi masyarakat di sekitar pabrik adalah untuk mengurangi .....
16. Bentuk kerjasama perdagangan dengan negara anggota ASEAN dalam mengirim barang produksi ke luar negeri disebut .....

#### E. URAIAN

**Jawablah pertanyaan di bawah ini dengan benar !**

17. Tuliskan nama logo yang terdapat pada gambar dibawah ini !



Jawab

---



---

18. Negara anggota ASEAN terdiri dari beberapa negara anggota dan memiliki sifat terbuka. Oleh karena itu negara lain masuk menjadi anggota ASEAN secara berangsur – angsur. Akhirnya menjadi 10 negara anggota ASEAN.

Tuliskan 5 negara anggota ASEAN !

Jawab :

***Perhatikan gambar contoh formulir berikut untuk menjawabn soal nomor 19 dan 20 !***

**Formulir Pengiriman Barang**

Nomor Formulir: 201806220011  
Tanggal: 22 Juni 2018

**Data Pengirim**  
Nama Pengirim: Ajeng Maharani  
Alamat Pengirim: Jalan Hsi Baping Raya No.100, Jakarta Timur  
Nomor Telepon: 021-234567

**Data Penerima**  
Nama Penerima: Darmawan Adi  
Alamat Penerima: Jalan Gedong Kuning 132, Kotagede, Yogyakarta  
Nomor Telepon: 088123452345

**Data Barang**  
Barang yang Dikirim: Baju/pakaian  
Berat Barang: 1.1 Kg  
Jenis Pengiriman: Ekspres/Reguler

Biaya Pengiriman: Rp18.000,00

Catatan: Kurir dapat menghubungi nomor telepon yang tertera, jika penerima tidak ada di rumah.

Tanda tangan petugas: *firmanasyah* (Firmanasyah)  
Tanda tangan pengirim: *Ajeng* (Ajeng Maharani)

19. Berdasarkan gambar di atas, tuliskan 3 manfaat formulir!

Jawab :

20. Mengapa pada formulir pengiriman barang alamat penerima barang harus ditulis?

Jawab: