

LEMBAR KERJA PESERTA DIDIK

Kelas 5

Tema 7

Subtema 1

Muatan Matematika

Jaring Jaring Kubus dan Balok

Disusun Oleh:

Dhea Ayu Purba Laras (2013053119)

KOMPETENSI DASAR

3.6 Menjelaskan dan menemukan jarring-jaring bangun ruang sederhana (kubus dan balok)

4.6 Membuat jarring-jaring bangun ruang sederhana (kubus dan balok)

MATERI PEMBELAJARAN
JARING JARING KUBUS DAN BALOK




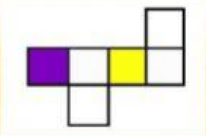

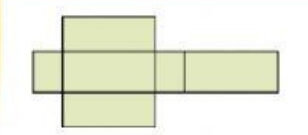
SOAL

Nama :

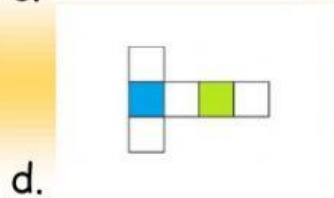
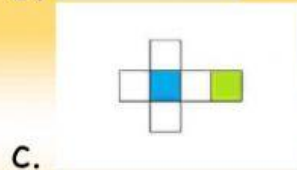
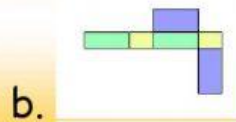
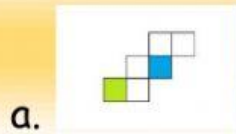
Kelas :

Pilihlah salah satu jawaban yang benar!

1. Manakah yang bukan merupakan jaring jaring kubus?

- a. 
- b. 
- c. 
- d. 

2. Berikut ini manakah yang merupakan jarring jarring balok?



3. Pilihlah nama gambar yang sesuai dengan gambar!



4. Tariklah gambar yang sesuai dengan jaring jaringnya !

