



**PEMERINTAH KABUPATEN SINJAI**

**DINAS PENDIDIKAN**

**SEKOLAH DASAR NEGERI NO. 204 AKKITANG ESSOE**

Alamat: Jln. Alekanrung Desa Kanrung Kec. Sinjai Tengah Kab. Sinjai

---

## **Soal Penilaian Akhir Semester ( PAS ) I Tahun Pelajaran 2022/2023**

### **Tema 4 Globalisasi**

**Nama :**

**Kelas : VI ( Enam )**

Berilah tanda silang (X) pada huruf A, B, C atau D pada jawaban yang benar!

1. Era globalisasi memberikan banyak dampak positif dalam kehidupan masyarakat. Dengan adanya globalisasi kita dapat meniru pola pikir yang baik seperti etos kerja yang tinggi, disiplin dan penggunaan IPTEK bangsa lain untuk meningkatkan kemajuan bangsa kita. Hal tersebut merupakan dampak positif globalisasi di bidang . . .  
A. Pendidikan  
B. Ekonomi  
C. Budaya  
D. Politik

perhatikan teks bacaan berikut kemudian jawablah soal nomor 2 dan 3 !

### **KERJASAMA NEGARA ASEAN**

Macam-macam kerjasama Indonesia dengan negara di kawasan Asia Tenggara di era globalisasi, antara lain kerjasama bilateral yaitu kerjasama antar dua negara, kerjasama regional yaitu kerjasama yang dilakukan beberapa negara di kawasan yang sama, kerjasama multilateral yaitu kerjasama yang dilakukan oleh dua negara atau lebih. Kerjasama ini mencakup berbagai bidang mulai bidang ekonomi, sosial budaya, pendidikan, politik, serta pertahanan dan keamanan.

2. Kerjasama Indonesia dengan negara-negara di kawasan ASEAN adalah contoh kerjasama . . .  
A. Regional  
B. Bilateral  
C. Individual  
D. Multilateral

3. Berikut ini yang merupakan contoh kerja sama Indonesia dengan negara di kawasan Asia Tenggara dalam bidang politik dan keamanan adalah ....
- a. Pendirian pabrik pupuk di Palembang Indonesia
  - b. Deklarasi Kuala Lumpur yang berisi kesepakatan kawasan Asia Tenggara yang damai, bebas dan netral
  - c. Diadakannya pesta olahraga Asia Tenggara yang berlangsung dua tahun sekali
  - d. Pertukaran pelajar antar negara-negara di kawasan Asia Tenggara secara berkelanjutan
4. Pasar bebas ASEAN merupakan contoh kerja sama negara-negara di kawasan Asia Tenggara dalam bidang . . . .
- A. Sosial
  - B. Budaya
  - C. Ekonomi
  - D. Pendidikan
5. Rina ingin membeli sepatu di supermaket. Di sana Rina melihat banyak pilihan sepatu mulai dari merek dalam negeri sampai merek luar negeri. Rina lebih memilih merek dalam negeri karena menurutnya barangnya mempunyai kualitas yang baik pula. Sikap Rina tersebut adalah contoh . . . .
- A. Pantang menyerah membela negara
  - B. Memboikot produk dari luar negeri
  - C. Rela berkorban demi bangsa
  - D. Cinta produk dalam negeri
6. Perhatikan gambar dampak globalisasi di bawah ini !



Berdasarkan gambar di atas sikap yang perlu kita lakukan agar terhindar dari dampak negatif globalisasi adalah memegang teguh nilai dan norma sesuai . . . bangsa Indonesia.

Jawab :

7. Kegiatan membeli produk dalam negeri merupakan sikap . . . .

Jawab:

8. Dalam pergaulan sehari-hari di sekolah atau masyarakat sangat mungkin bagi kita memiliki teman dari latar belakang ekonomi yang berbeda. Sikap kita terhadap teman yang berbeda tersebut adalah . . . .

Jawab:

**Perhatikan gambar reklame berikut untuk menjawab soal nomor 9 dan 10 !**



9. Selebaran kertas berisi tulisan dan gambar, biasanya dibagikan di tempat umum disebut ....

Jawab:

10. Informasi yang biasanya terletak pada kemasan sebuah produk disebut ....

Jawab:

**Perhatikan teks berikut untuk menjawab soal nomor 11 dan 13 !**

Reklame digunakan untuk menginformasikan, mengajak, menganjurkan, dan menawarkan produk. Reklame ada yang bersifat komersial dan non komersial. Komersial digunakan oleh pedagang untuk menawarkan barang atau produknya. Sedangkan nonkomersial digunakan untuk mengajak masyarakat melakukan suatu hal seperti hidup bersih, hemat energi dan lainnya. Ada berbagai jenis reklame diantaranya poster, iklan, spanduk, baliho, dan lain-lain.

11. Apakah manfaat reklame ?

Jawab :

12. Tuliskan perbedaan reklame yang bersifat komersial dan nonkomersial !

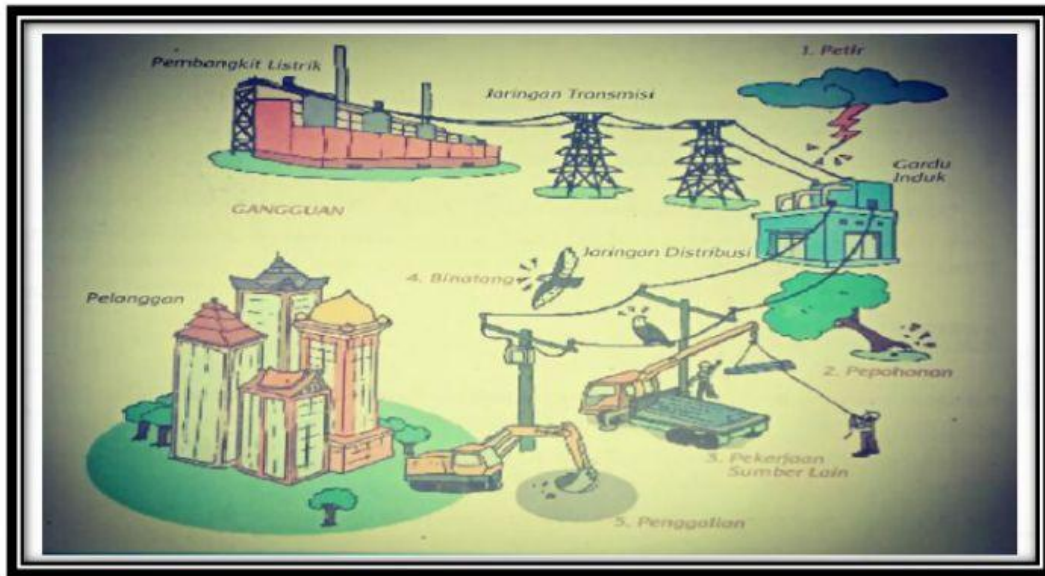
Jawab:



13. Apakah yang dimaksud dengan baliho ?

Jawab:

Perhatikan gambar berikut untuk menjawab soal nomor 14 dan 15 !



14. Tuliskan 3 penyebab lampu padam berdasarkan gambar di atas!

Jawab:

15. Tuliskan 3 contoh cara menghemat listrik di rumah !

Jawab:

16. Bacalah teks berikut !

Pada era modern ini, tenaga air banyak dimanfaatkan untuk menghasilkan listrik pada PLTA. Pembangkit listrik ini bekerja dengan cara mengubah energi pada air mengalir menjadi energi gerak yang menggerakkan turbin.

Pasangkan bagian-bagian PLTA berikut dengan artinya!









1. Bendungan	<input type="radio"/>	<input type="radio"/>	A. Roda besar yang berputar cepat
2. Turbin	<input type="radio"/>	<input type="radio"/>	B. Mengalirkan listrik dari PLTA, menuju pemakai.
3. Generator	<input type="radio"/>	<input type="radio"/>	C. Menampung air dalam jumlah besar agar tenaga yang dihasilkan juga besar
4. Jalur transmisi	<input type="radio"/>	<input type="radio"/>	D. Mengubah energi gerak dari turbin menjadi energi listrik

Perhatikan bacaan di bawah ini !

### ENERGI ALTERNATIF

Ada beberapa energi alternatif antara lain energi biomassa terdiri atas tanaman hidup, pohon mati, dan serpihan kayu. Energi tenaga nuklir yang merupakan kebutuhan energi manusia. Energi gas alam merupakan energi yang harganya lebih terjangkau daripada bahan bakar minyak. Tenaga matahari digunakan untuk pembangkit listrik. Tenaga angin digunakan untuk memutar turbin pembangkit listrik.









17. Berdasarkan bacaan di atas pasangkanlah energi alternatif sesuai dengan manfaatnya !

1. Tenaga nuklir			A. Harganya lebih terjangkau
2. Gas alam			B. Memutar turbin pembangkit listrik.
3. Tenaga angin			C. Potensi yang paling besar bagi kebutuhan manusia
4. Tenaga matahari			D. Untuk pembangkit listrik

18. Bacalah teks berikut !

Hemat energi adalah meningkatkan efisiensi dan efektivitas pemakaian energi setinggi mungkin, namun bukan mengurangi keperluan akan pemakaian energi.

Angkatlah kolom kuning ke kolom hijau, sesuaikan dengan jawaban yang benar !

1. Menggunakan lampu neon		
2. AC tetap dihidupkan ketika jendela dibuka		
3. Mematikan komputer atau laptop jika tidak digunakan		
4. Menyetrika setiap hari		

A. Hemat energi

B. Hemat energi

A. Boros energi

B. Boros energi

19. Berilah tanda centang (✓) pada kolom yang disediakan berdasarkan teks berikut !

Teks eksplanasi ilmiah adalah teks yang menerangkan suatu proses yang bersifat ilmu pengetahuan alam, seperti gejala alam, terjadinya pelangi, proses arus listrik, dan lain sebagainya. Karakteristik atau ciri dari teks eksplanasi yaitu isinya memuat fakta.

NO	PERNYATAAN	BENAR	SALAH
1	Teks eksplanasi ilmiah membahas tentang ilmu pengetahuan alam		
2	Isi teks eksplanasi memuat opini atau pendapat		
3	Teks eksplanasi menggunakan kalimat efektif		

**Perhatikan bacaan berikut!**

**MASYARAKAT ASEAN BEBAS NARKOBA**

Narkoba adalah zat adiktif yang berbahaya bagi tubuh yang dapat menimbulkan efek penurunan kesadaran, halusinasi, serta daya rangsang. Meningkatnya kejahatan narkoba akan mengancam keselamatan, keamanan, dan kesejahteraan masyarakat. Indonesia bekerja sama dengan negara-negara ASEAN menyusun langkah-langkah dalam mencapai “ASEAN Drug Free 2015”. Semua negara saling menukar informasi dalam hal rehabilitasi, pencegahan, dan penegakan hukum tentang masalah narkoba.

**20.** Berilah tanda centang (✓) pada kolom BENAR atau SALAH pernyataan berdasarkan teks di atas !

NO	PERNYATAAN	BENAR	SALAH
1	Narkoba adalah zat adiktif yang tidak berbahaya bagi tubuh		
2	Meningkatnya kejahatan narkoba akan mengancam keselamatan, keamanan, dan kesejahteraan masyarakat.		
3	Indonesia bekerja sama dengan negara-negara ASEAN menyusun langkah-langkah dalam mencapai “ASEAN Drug Free 2015”.		