

REPASO CIENCIAS SOCIALES - UNIDAD 3

1.- Selecciona las opciones correctas

- El aire tiene un solo gas.
- El aire es una mezcla de diferentes gases: nitrógeno, oxígeno, vapor de agua y dióxido de carbono.
- El aire sirve para que animales y aviones puedan volar.
- El aire sirve para que los barcos viajen por el mar.
- Podemos vivir sin aire.

2.- Completa el texto con las palabras que se indican:

El aire es una mezcla de distintos _____, los más importante son: _____, oxígeno, _____ y dióxido de carbono.

El aire tiene tres propiedades: el aire _____, no tiene _____ y ocupa un _____.

La capa de aire que rodea la Tierra se llama _____ y tiene dos partes: la _____ y la estratosfera.

El aire se puede contaminar cuando tiene _____, cenizas o gases perjudiciales. La contaminación puede tener causas _____ o artificiales.

pesa

nitrógeno

lugar

gases

vapor de agua

forma fija

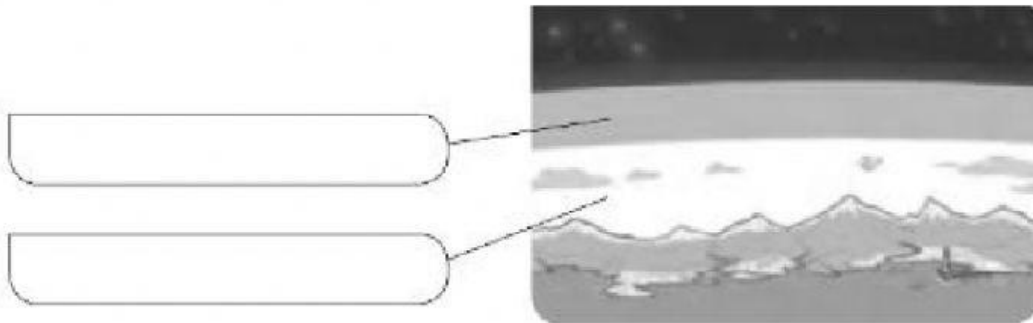
troposfera

naturales


humo

atmósfera

3.- Escribe en el dibujo el nombre de las partes señaladas:



4.- ¿Para qué sirve el aire? Escribe la letra que corresponde:



- Para volar
- Para inflar
- Para cocinar
- Para escuchar

5.- Selecciona la opción correcta. La CAPA DE OZONO...

- Está en la troposfera y nos protege de los rayos perjudiciales del Sol.
- Está en la estratosfera y nos protege de los rayos perjudiciales del Sol.
- Está en la troposfera y nos protege de los rayos y la lluvia.
- Está en la estratosfera y nos protege de los rayos y la lluvia.



6.- Une los siguientes conceptos con sus definiciones:

TIEMPO
ATMOSFÉRICO

Es el estado de la atmósfera en un
tiempo y lugar concretos.

CLIMA

Es el estado de la atmósfera
durante muchos años.

7.- ¿Qué fenómeno atmosférico representa cada imagen?



8.- ¿Qué tipo de viento conoces? Completa y relaciona:

B_____


· Viento fuerte

V_____

· Viento suave

H_____

· Viento muy fuerte



9.- Une las características con su clima:

CLIMA EN LAS
ZONAS DE MONTAÑA

Temperaturas **suaves** todo el año.

CLIMA EN LAS
ZONAS DE COSTA

Temperaturas muy bajas y
precipitaciones en forma de **nieve**.

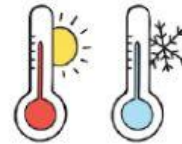
CLIMA EN LAS
ZONAS DE INTERIOR
(el nuestro)

Temperaturas **altas** en verano y
bajas en invierno. Poca lluvia.

10.- ¿Qué es este aparato? ¿Para que sirve? Completa:



Mide la _____ del viento.



Mide la _____.



Mide la _____ del viento.



Mide la cantidad de
_____ que cae.

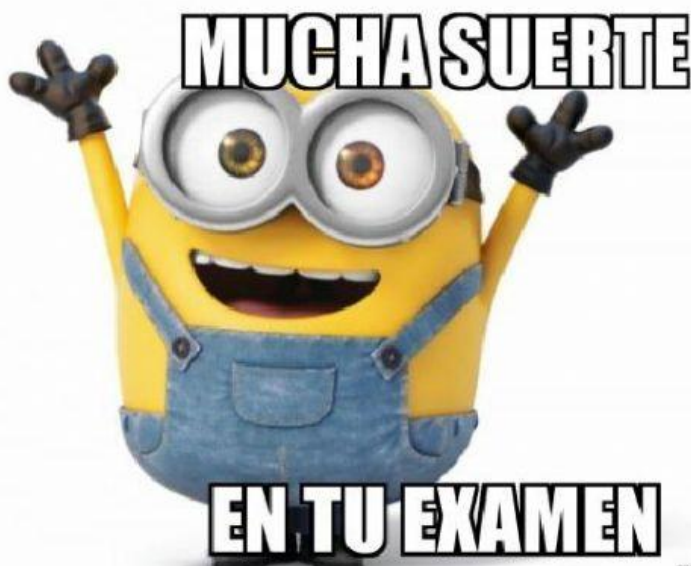
11.- ¿Contaminación natural o artificial?



12.- ¿Cómo podemos acabar con la contaminación?

Marca:

- Utilizando más el coche.
- Cuidando la naturaleza (los árboles nos dan oxígeno).
- Dejar todas las luces dadas y enchufes conectados.
- Reciclando.
- Desenchufando los aparatos que no estemos usando.
- Utilizando transporte público.



makeameme.org