





Nombre: Fecha: Curso:

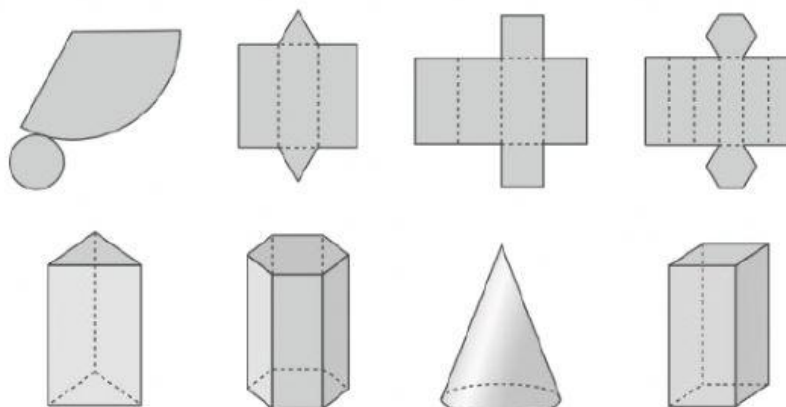
1 Completa la siguiente tabla.

			
Polígono de las bases			
N.º de caras laterales			
N.º de vértices			

2 Explica qué son los poliedros. Después, escribe el nombre de sus partes en este dibujo.



3 Une cada figura con su desarrollo.



4 Observa la ruleta e indica si estas afirmaciones son seguras, posibles o imposibles.



a) Caer en un número primo.

b) Caer en un número compuesto y múltiplo de 5.

c) Caer en un número comprendido entre 1 y 8.