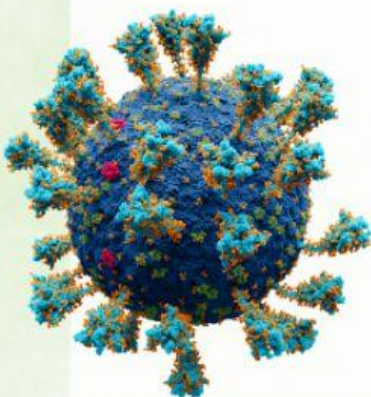




LKPD BIOLOGI **kelas x**

PERANAN VIRUS



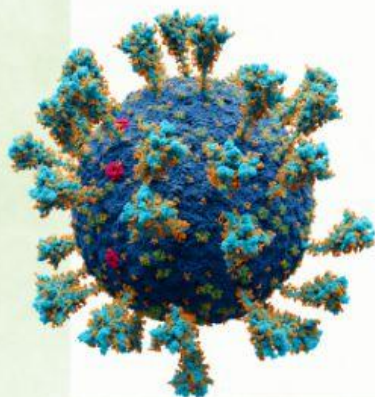
LKPD BIOLOGI **kelas x**

PERANAN VIRUS

NAMA SEKOLAH :
KELOMPOK :
NAMA ANGGOTA :

KELAS :

TUJUAN :
MELALUI KEGIATAN DISKUSI KELOMPOK,
PESERTA DIDIK DAPAT MENGANALISIS
PERANAN VIRUS DENGAN TEPAT.



TUGAS 1

Studi kasus :

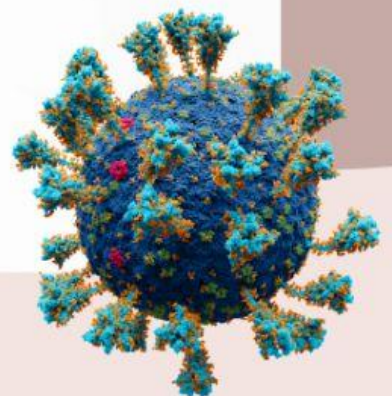
Ibu Nia memiliki seorang bayi yang sedang sakit dengan gejala demam (suhu tubuh 38,9 C), rewel, sulit makan, dan munculnya ruam merah di kulit bayi Ibu Nia. Kemudian Ibu Nia membawa bayinya terserang virus *Varicella zoster*.



Pertanyaan:

1. Penyakit apakah yang diderita bayi Ibu Nia?
2. Bagaimana struktur virus Varicella zoster?
3. Bagaimana cara mengobati dan mencegah penyakit tersebut agar tidak terserang kembali?

Sebelum menganalisis kasus di atas, simaklah video berikut ini:

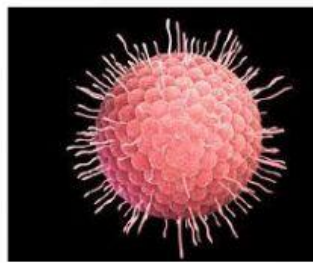


TUGAS 2

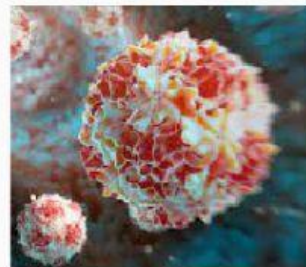
Klik/sentuh/drag pilihan jawaban pada bagian bawah dan pindahkan dalam kotak yang kosong, lepaskan pada kotak yang kamu anggap paling benar.




Hepadnavirus



Varicella zoster



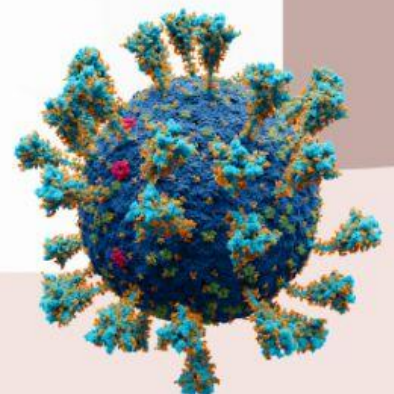
Poliovirus



Polio

Cacar air

Hepatitis



KESIMPULAN

PERANAN VIRUS

Setelah melakukan kegiatan di atas, tuliskan kesimpulan diri mengenai apa yang telah kamu pelajari pada kegiatan tersebut!

