

Lembar Kerja Peserta Didik

Sistem Pernapasan Manusia

Kelas/Semester : V/I
Materi : IPAS



Kompetensi Dasar	Indikator Pencapaian Kompetensi
3.2. Memahami organ pernapasan dan fungsinya pada hewan dan manusia, serta cara memelihara kesehatan organ pernapasan manusia	3.2.1. Menganalisis struktur organ pernapasan pada manusia 3.2.2. Menganalisis fungsi organ pernapasan pada manusia



Nama :
Kelas :



Mengamati

(5) Organ pernapasan itu digunakan untuk keluar masuknya udara di dalam tubuh kita, misal hidung, mulut, dan paru-paru.

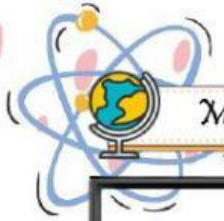
(4) Apa itu organ pernapasan?

(3) Iya benar, seharusnya masker digunakan untuk melindungi organ pernapasan.

(2) Semua gambar itu merupakan contoh penggunaan masker yang salah, Pak.

(1) Bagaimana menurut kalian tentang gambar berikut ini?

Created by Urmila Umardianti



Menanya



Setelah mengamati percakapan di atas, sekarang kita mengamati video tentang sistem pernapasan. Setelah itu, anak-anak diarahkan untuk mengisi pertanyaan-pertanyaan yang ingin diajukan pada kolom yang tersedia!



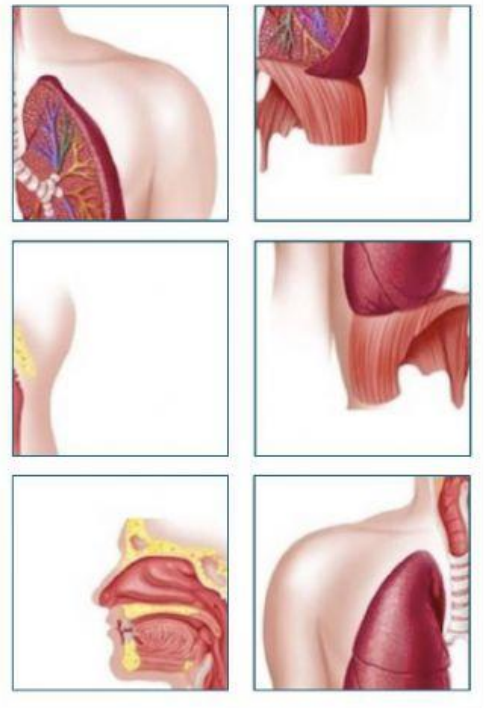
Kotak Pertanyaan

Three horizontal boxes with dashed lines and purple tabs on the left, intended for writing questions.

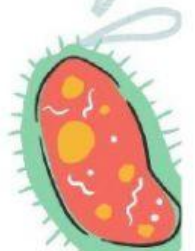


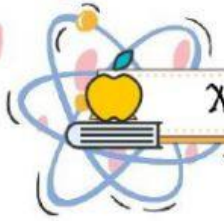
Mencoba

A 3x2 grid of empty boxes for a puzzle activity.



Susunlah puzzle berikut ini dengan benar!

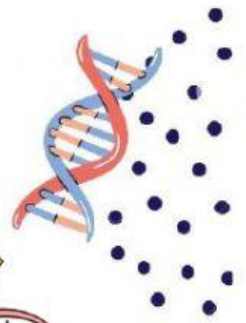




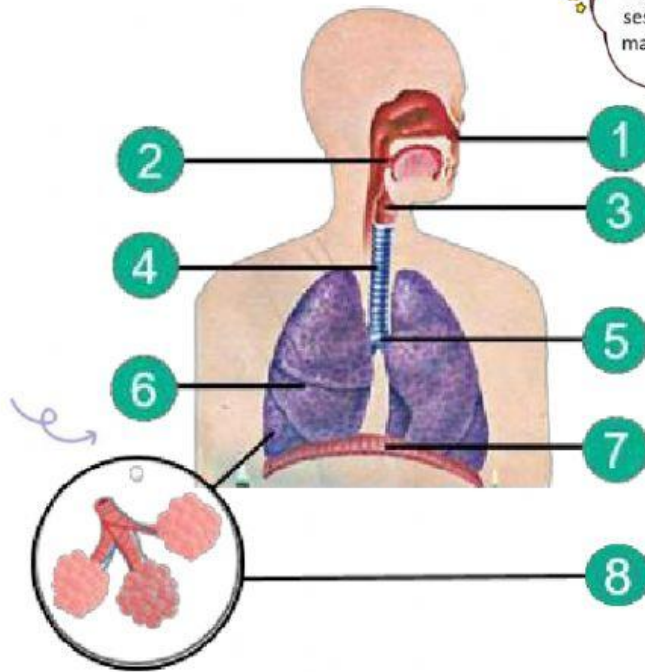
Menalar



Mengomunikasikan



Pasangkan nama dan gambar organ pernapasan yang tepat dengan menarik garis dari nama organ ke nomor yang sesuai. Misal nomor 1 adalah mata, maka tariklah garis dari mata ke nomor 1.



HIDUNG

1

DIAFRAGMA

2

BRONKUS

3

LARING

4

FARING

5

TRAKEA


6


PARU-PARU

7

ALVEOLUS

8

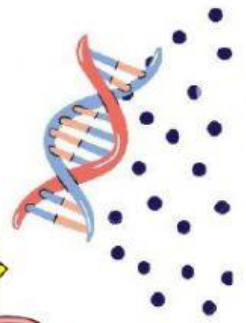




Menalar



Mengomunikasikan



Urutkanlah organ-organ pernapasan berikut ini dengan menarik dan meletakkan organ pada nomor urutan yang tepat!



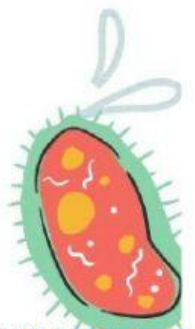
Hidung	Alveolus
Bronkus	Laring
Trakea	Bronkiolus
Faring	

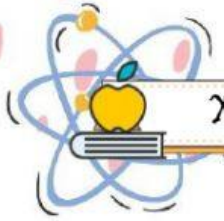


Urutkan organ pernapasan manusia dari luar ke dalam

```

graph LR
  1[1] --> 2[2]
  2 --> 3[3]
  3 --> 4[4]
  4 --> 5[5]
  5 --> 6[6]
  6 --> 7[7]
  
```

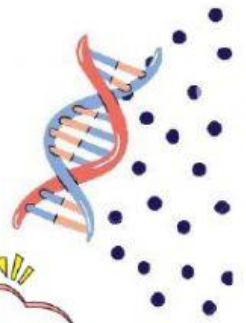




Menalar



Mengomunikasikan



Isilah pertanyaan-pertanyaan berikut ini!



1 Persimpangan antara saluran pencernaan dengan saluran pernafasan disebut

2 Organ pernafasan berbentuk pipa yang terletak leher disebut

3 Struktur berbentuk gelembung-gelembung kecil pada paru-paru yang berfungsi sebagai tempat pertukaran oksigen dan karbondioksida disebut

4 Hidung memiliki rambut-rambut halus yang berfungsi untuk ...

Red arrow pointing to an empty pink rectangular box for the answer to question 4.

5 Pada laring terdapat katup epiglottis yang berfungsi untuk

Red arrow pointing to an empty pink rectangular box for the answer to question 5.

