



1. Continúa la serie

UNA HORA



MEDIA HORA



UNA HORA



MEDIA HORA



2. Guillermo y Ana entraron en el cine a las 05:00 y salieron a las 07:00. ¿Cuántas horas estuvieron en el cine?

ENTRARON

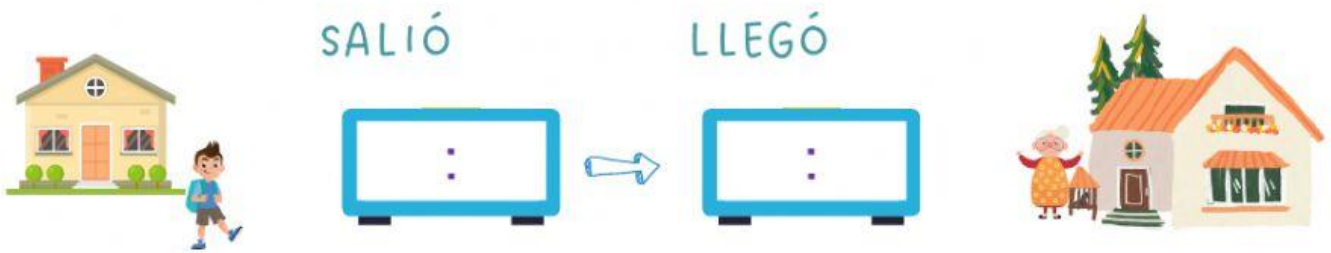
SALIERON



Solución: Estuvieron horas en el cine.



3. Felipe fue a casa de su abuela por el bosque, salió de su casa a las 09:00 y llegó a las 12:00. ¿Cuánto tardó en llegar?



Solución: Tardó horas en llegar a casa de su abuela.

4. Indica la opción correcta teniendo en cuenta las agujas

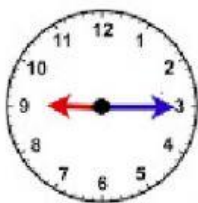


09:00

09:15

09:30

09:45



09:00

09:15

09:30

09:45



09:00

09:15

09:30

09:45



09:00

09:15

09:30

09:45

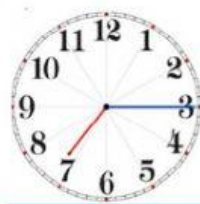
5. Indica las horas



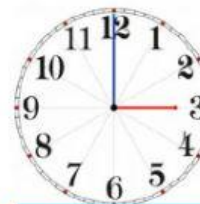
:



:



:



:

