

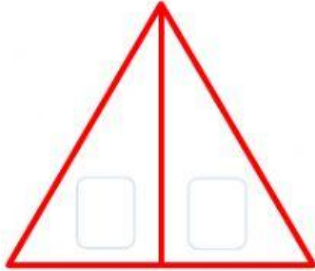


Nombres y apellidos:

Número de celular:

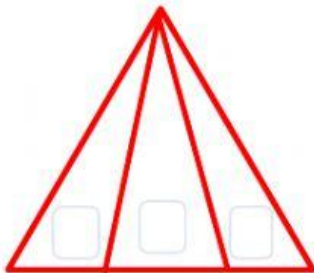
CONTEO DE TRIÁNGULOS

01.- Cuenta todos los triángulos



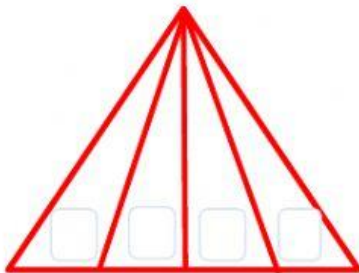
$$\square + \square = \square$$

02.- Cuenta todos los triángulos



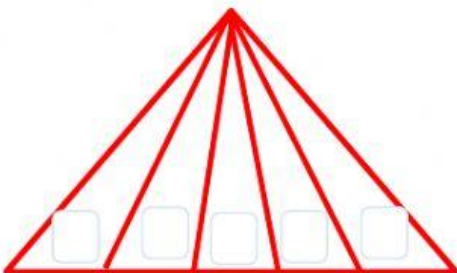
$$\square + \square + \square = \square$$

03.- Cuenta todos los triángulos



$$\square + \square + \square + \square = \square$$

04.- Cuenta todos los triángulos



$$\square + \square + \square + \square + \square = \square$$