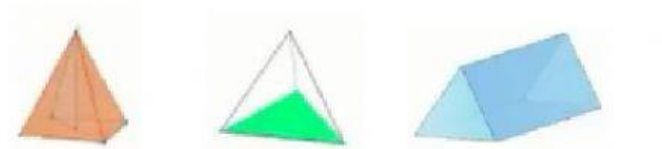


## LATIHAN MEMBUAT SOAL LKPD LIVE WORKSHEET

### Soal Pilihan Ganda

Di Bawah ini yang merupakan gambar dari limas segirmpat adalah ...



### Soal Isian Singkat dan Paragraf

Segitiga yang salah satusudutnya berukuran  $90^0$  disebut dengan segitiga ...

Sebutkan sifat-sifat dari segitiga sama sisi!

### Soal Drop Down

Apa nama bangun ruang di bawah ini!



### SOAL CHECK BOX

Yang merupakan bagian dari bangun ruang sisi datar adalah :

KUBUS

PRISMA

TABUNG

LIMAS

## SOAL JOIN ARROW

Tarik garis untuk memasangkan bentuk bangun ruang dan nama bangun ruang dibawah ini !



PRISMA SEGITIGA



LIMAS SEGITIGA



BALOK

LIMAS SEGIEMPAT

## SOAL DRAG AND DROP



Pindahkan Bangun ruang di samping ke Kotak yang Tepat!



PRISMA SEGITIGA

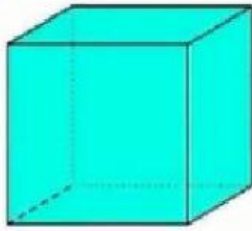


LIMAS SEGIEMPAT

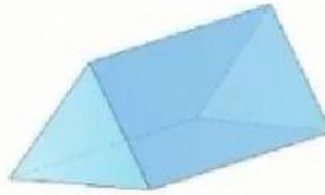


LIMAS SEGITIGA

### SOAL LISTENING



+




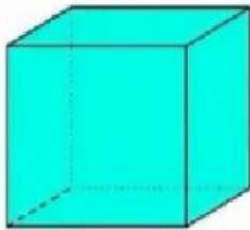
BENAR

SALAH

BENAR

SALAH

### SOAL SPEAKING



### SOAL WORD SEARCH

CARI KATA : BALOK, LIMAS, PRISMA, KUBUS

L	K	L	P	H	K	V	B
I	K	U	B	U	S	P	A
M	G	H	L	K	J	R	L
G	B	H	I	S	S	I	O
S	V	D	M	G	H	S	K
A	D	A	A	B	A	M	I
K	F	D	S	U	T	A	R
E	W	A	V	E	R	A	C