

Nombre de la Institución :

Nombres y apellidos :



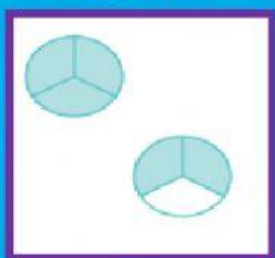
Grado :


FRACCIONES

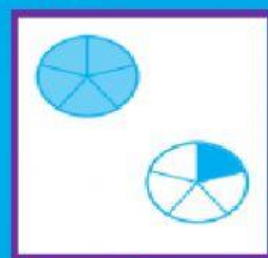
1. **Observa** con atención el video



2. **Escoge y ubica** la respuesta según corresponda.







$$\frac{6}{5}$$

$$\frac{5}{3}$$

$$\frac{11}{3}$$

3. **Selecciona** con una línea que tipo de fracción es:

$$\frac{1}{9}$$

IMPROPIA


$$7\frac{3}{8}$$

PROPIA

$$\frac{19}{3}$$

MIXTA

4. **Observa** el gráfico y completa



El $\frac{1}{6}$ de las  es igual a ____ 

METACOGNICION

¿Qué he aprendido?

¿En qué lo puedo aplicar?

¿Para qué me sirve?

¿Qué me gustaría aprender?