



**PEMERINTAH DAERAH KHUSUS IBUKOTA JAKARTA**  
**DINAS PENDIDIKAN PROVINSI DKI JAKARTA**  
**SUKU DINAS PENDIDIKAN KOTA ADMINISTRASI JAKARTA SELATAN**  
**SD NEGERI MENTENG ATAS 01**

Jl. Dr. Saharjo No. 121 Kec. Setiabudi Telp. : (021) 835 5336 Email : [sdnmentengatas01pg@gmail.com](mailto:sdnmentengatas01pg@gmail.com)  
JAKARTA

Kode Pos. 12960

**Penilaian Akhir Semester**  
**Tahun Pelajaran 2022 / 2023**

Mupel : SBdP	Kelas : VI (enam)
Nama : .....	Tanggal : .....

**I. Berilah tanda silang (x) pada huruf a, b, c dan d untuk jawaban yang paling benar!**

**SBdP KD 3.1**

1. Poster dibuat dengan peraga gambar yang menarik dan menyimpan makna, sehingga tanpa membaca pesan yang ditulis, publik sudah mengetahui isi poster tersebut. Tujuan dari pembuatan poster antara lain adalah sebagai ....
  - a. Media untuk menjual produk secara langsung dengan masyarakat
  - b. Alat untuk menciptakan keamanan dan kenyamanan dalam membeli barang
  - c. Media untuk mempublikasikan sebuah informasi kepada masyarakat
  - d. Perangkat untuk menangkal informasi-informasi palsu di masyarakat
2. Tanda, lambang, ataupun simbol yang mengandung makna dan digunakan sebagai identitas sebuah organisasi, perusahaan, atau individu agar mudah diingat oleh orang lain adalah pengertian dari ...
  - a. reklame
  - b. logo
  - c. poster
  - d. iklan
3. Perhatikan gambar di bawah ini!



Berikut adalah contoh reklame yang disebut . . . .

- a. poster
  - b. iklan
  - c. logo
  - d. spanduk
4. Tujuan pembuatan reklame adalah ....
  - a. Bersenang-senang bersama
  - b. Menawarkan produk atau jasa agar dikenal
  - c. Agar viral di tengah masyarakat
  - d. Membuat lebih menarik
5. Berikut adalah langkah membuat logo, **kecuali** ....
  - a. Menentukan tema
  - b. Mewarnai logo
  - c. Membuat gambar sesuai tema
  - d. Menempelkan logo
6. Bagian depan pada buklet adalah....
  - a. isi
  - b. jenis produk
  - c. daftar isi
  - d. sampul

7. Di bawah ini contoh dari logo adalah . . . .

a.



c.



b.



d.



8. Perhatikan gambar berikut!



Poster tersebut termasuk jenis poster . . . .

- a. poster layanan masyarakat
- b. poster niaga
- c. poster kegiatan
- d. poster umum

9. Bagian poster kegiatan yang biasa ditulis dengan ukuran huruf paling besar adalah ....

- a. waktu acara
- b. sumber informasi
- c. alamat
- d. judul poster

10. Berikut ini yang termasuk kalimat poster yang baik adalah ....

- a. Ayo,kita pakai produk terbaru dari luar negeri
- b. Cintailah produk terancang dari luar negeri
- c. Tiru dan jiplaklah hasil karya budaya asing
- d. Lestarkanlah budaya daerah dan nasional bangsa kita

11. Reni melihat poster yang ditempelkan di mading sekolah. Poster tersebut berisi informasi mengenai lomba menyanyi yang akan diadakan sekolah. Poster yang dilihat Reni merupakan jenis ....

- a. Poster niaga
- b. Poster kegiatan
- c. Poster pendidikan
- d. Poster layanan masyarakat

12. Pesan pada poster disampaikan dengan bahasa yang . . . .

- a. Menggunakan isyarat
- b. Indah menarik
- c. Mudah dipahami
- d. Sulit dipahami

13. Iklan yang terdapat di tv atau youtube termasuk pada reklame bentuk ....

- a. visual
- b. audio visual
- c. audio
- d. imajinasi

14. Reklame non komersial dibuat dengan tujuan untuk.....

- a. Mencari keuntungan
- b. Mengajak pembaca untuk menggunakan produk yang ditawarkan
- c. Mengajak pembaca untuk membeli produk
- d. Mengikuti anjuran yang disarankan

### SBdP KD 3.2

15. Interval nada adalah ....
- jarak antara nada yang satu ke nada yang lain
  - jarak antara bunyi yang satu ke bunyi yang lain
  - jarak antara lagu yang satu ke lagu yang lain
  - jarak antara birama satu ke birama yang lain
16. Berikut ini yang merupakan ciri-ciri tangga nada mayor adalah ....
- bersifat sedih
  - bersemangat
  - biasanya diawali dan diakhiri dengan nada la = A
  - mempunyai pola interval :  $1 - \frac{1}{2} - 1 - 1 - \frac{1}{2} - 1 - 1$
17. Interval nada dapat dimainkan menggunakan alat musik melodis. Salah satu contoh alat musik melodis antara lain ....
- kendang
  - pianika
  - beduk
  - tamborin
18. Jarak satu nada disebut . . . .
- prime
  - second
  - terts
  - kuart
19. Perhatikan gambar di bawah ini!



Jarak nada dari "Re" ke nada "Fa" adalah . . .

- 2
- $2 \frac{1}{2}$
- 3
- $3 \frac{1}{2}$


20. Perhatikan gambar di bawah ini!



Alat musik tradisional di samping berasal dari daerah Nusa Tenggara Timur yang dimainkan dengan cara . . . .

- ditiup
- dipukul
- dipetik
- digesek

21. Di bawah ini contoh alat musik ritmis yang tepat adalah . . . .





### SBdP KD 3.3

Perhatikan gambar di bawah ini




22. Nama tarian di samping adalah... .
- Tari manuk rawa
  - Tari kupu-kupu
  - Tari merak
  - Tari garuda nusantara
23. Pola denah yang dilakukan oleh seorang penari dengan perpindahan pergerakan, dan pergeseran posisi dalam sebuah ruang untuk penari disebut ....
- Pola gerak
  - Pola lantai
  - Pola musik
  - Pola irama
24. Perhatikan nama tari-tarian berikut!
- lego-lego
  - piring
  - saman
  - kecak
- Tarian yang menggunakan pola lantai melingkar terdapat pada nomor ....
- 1 dan 2
  - 1 dan 4
  - 2 dan 3
  - 3 dan 4
25. Busana yang digunakan oleh seorang penari disesuaikan dengan ....
- iringan musik
  - tema tari yang dibawakan
  - jumlah penari
  - postur tubuh penari
26. Diana dan teman-temannya sedang berlatih menari tarian khas daerah. Pada saat menari mereka membentuk garis lingkaran. Pola lantai yang digunakan dalam tarian tersebut adalah ....
- zig-zag
  - melengkung
  - vertikal
  - horizontal
27. Tarian berikut ini yang berasal dari Bali adalah tari ....
- piring
  - jaran kepang
  - kecak
  - saman
28. Pola lantai yang berkesan sederhana tetapi kuat adalah pola lantai ....
- Garis lurus
  - Garis zigzag
  - garis lengkung
  - garis menyilang

### SBdP KD 3.4

29. Salah satu karya seni rupa tiga dimensi adalah ... .
- Patung
  - Lukisan
  - kain batik
  - arca


30. Memahat dan mengukir merupakan teknik membuat patung dari bahan yang berasal dari ....
- kayu dan batu
  - bubur kertas dan semen
  - tanah liat dan gipsum
  - lilin dan sabun
31. Perhatikan gambar di bawah ini!



Patung di samping dibuat dengan teknik ....

- cor
- pahat
- butsir
- ukir

32. Alat yang digunakan untuk membuat patung dari bahan lunak adalah... .



33. Kegiatan yang dilakukan agar patung yang kita buat dapat dilihat oleh teman atau orang lain yaitu dengan cara ....

- mengadakan kegiatan jual beli
- mengadakan kegiatan pameran
- mengadakan musyawarah
- mengadakan kegiatan barter

34. Di bawah ini patung yang berfungsi untuk pelengkap bangunan (arsitektur) yang tepat adalah



35. Patung monumen digunakan untuk ....

- Beribadah
- hiasan bangunan
- memperingati hari bersejarah
- pameran

**II. Isilah titik-titik di bawah ini dengan jawaban yang benar !**

**SBdP KD 3.1**

36. Perhatikan gambar di bawah ini!



Gambar di samping adalah contoh reklame yang disebut dengan . . . .

37. Jenis reklame audio visual ditampilkan menggunakan media ....

38. Perhatikan gambar di bawah ini!



Poster pada gambar tersebut bertema tentang . . . .


39. Berdasarkan tempat pemasangannya reklame di bagi menjadi 2, yaitu . . . . dan . . . .

**SBdP KD 3.2**

40. Pada Hari Pahlawan paduan suara SDN Menteng Atas 01 menyanyikan lagu yang berjudul Gugur Bunga.

Lagu tersebut adalah salah satu contoh lagu dengan tangga nada diatonis ....

41. Perhatikan gambar di bawah ini



Alat musik yang dimainkan anak pada gambar, termasuk alat musik ....

**SBdP KD 3.3**

42.



Tarian di samping menggunakan pola lantai .....

43. Pola lantai yang memiliki kesan lembut tetapi lemah adalah pola lantai garis .....

**SBdP KD 3.4**

44.



Patung di samping memiliki fungsi sebagai patung . . . .

45. Patung yang digunakan untuk memperingati peristiwa bersejarah disebut patung ....

**III. Jawablah pertanyaan di bawah ini dengan jawaban yang tepat!**

**SBdP KD 3.4**

46. Tuliskan 3 alat untuk membuat patung!

Jawab :

.....

**SBdP KD 3.3**

47. Gambarkan pola lantai vertikal, horizontal dan lingkaran! (**GAMBARLAH DIKERTAS DAN KIRIM FOTONYA MELALUI WA**)

Jawab :

.....

**SBdP KD 3.2**

48. Tuliskan 3 lagu yang menggunakan tangga nada diatonis mayor!

Jawab :

.....

**SBdP KD 3.1**

49. Tuliskan 3 contoh dari reklame!

Jawab :

.....

50. Buatlah poster layanan masyarakat dengan tema "Hemat Energi" (**GAMBARLAH DIKERTAS DAN KIRIM FOTONYA MELALUI WA**)

Jawab :

.....