

TEMA: ESTRUCTURA DE LA POBLACIÓN

EN BASE A LA INFORMACIÓN DE LAS PÁGINAS 71 y 72 DEL TEXTO INTEGRADO DESARROLLE LAS SIGUIENTES ACTIVIDADES.

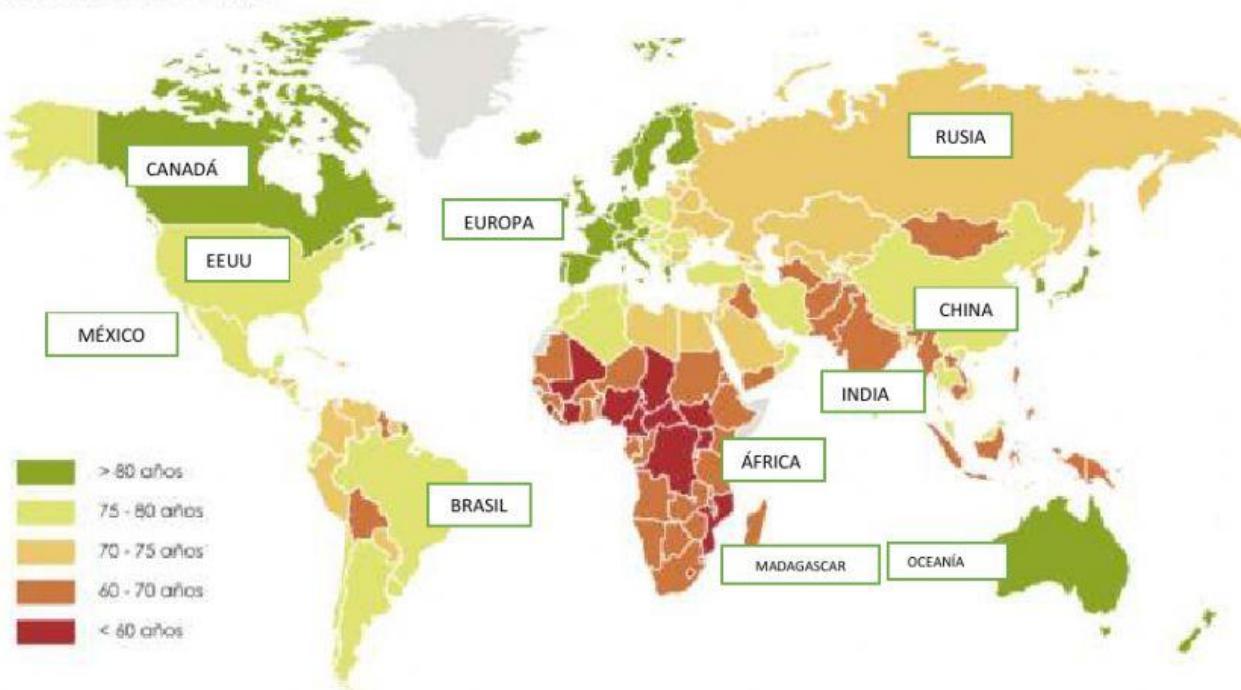
1. LEA, REFLEXIONE Y MARQUE LA COLUMNA QUE CONSIDERE CORRECTA EN LA V SI ES VERDADERO O EN LA F SI ES FALSO:

	V	F
a) El estudio de la estructura de la población permite conocer cómo es su composición según diferentes criterios, como edad, sexo y actividad económica.		
b) No tiene importancia conocer las características de la población porque no ayuda a planificar la dotación de servicios a la población, como hospitales, escuelas, residencias de ancianos, etc.		
c) En la actualidad, el número de hombres y mujeres en la población mundial es prácticamente equivalente.		
d) Los países con mayores tasas de mortalidad materna se encuentran en el África Subsahariana.		
e) En la actualidad hay más mujeres que hombres		
f) Aunque nacen más niños que niñas, el equilibrio se mantiene porque la tasa de mortalidad masculina es mayor que la femenina.		
g) En la actualidad hay más hombre que mujeres		
h) En los países subdesarrollados, la esperanza de vida masculina es superior, pues el número de mujeres que fallecen jóvenes es mucho mayor.		
i) Dependiendo del nivel de desarrollo económico y social de cada país, la esperanza de vida al nacer puede variar.		

2. OBSERVAR EL MAPA SOBRE LA ESPERANZA DE VIDA NACER

Años de vida en función del país de nacimiento

Esperanza de vida

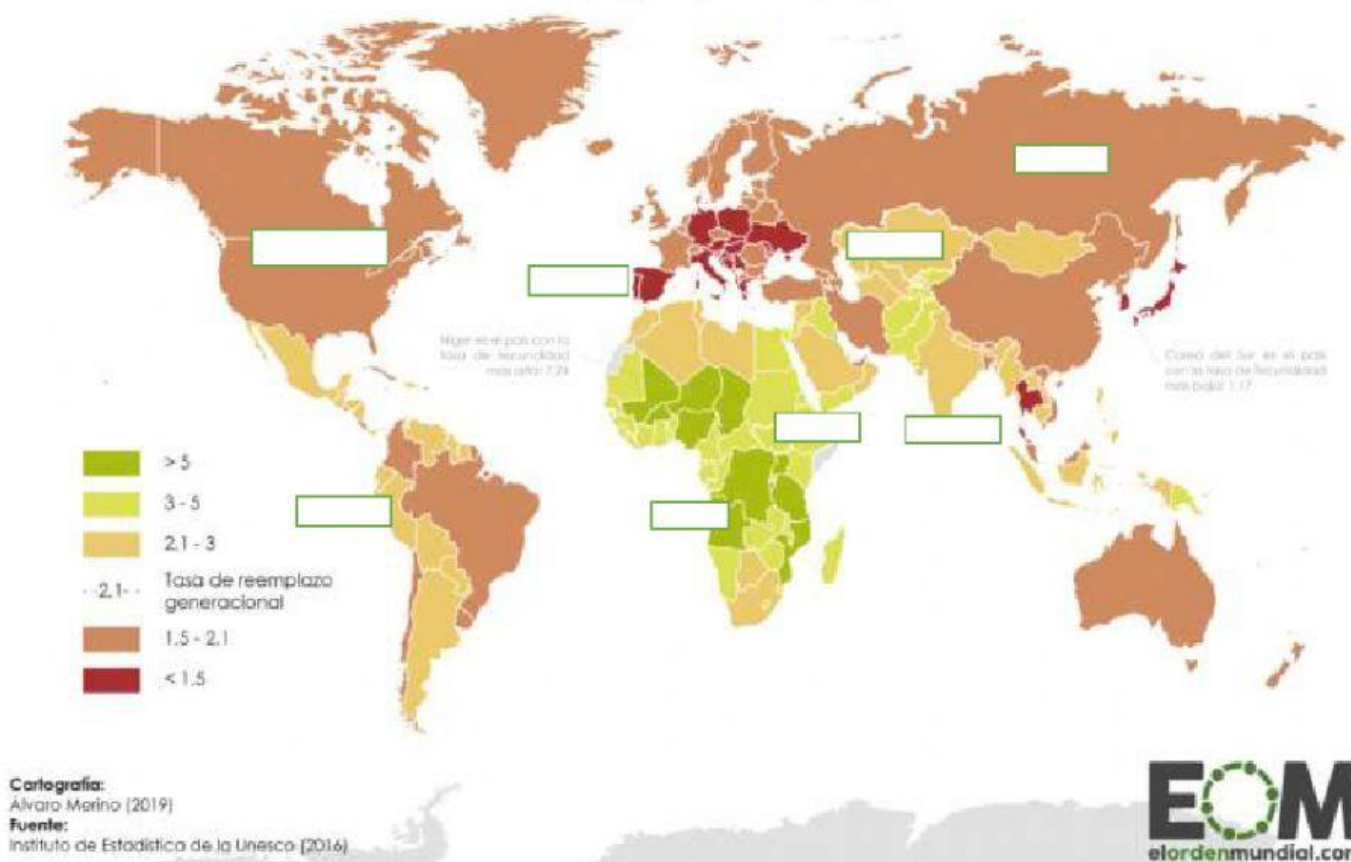


3. EN BASE A LOS DATOS DEL MAPA SOBRE LA ESPERANZA DE VIDA AL NACER, LEER LAS AFIRMACIONES Y PINCHAR EN LA RESPUESTA CORRECTA:

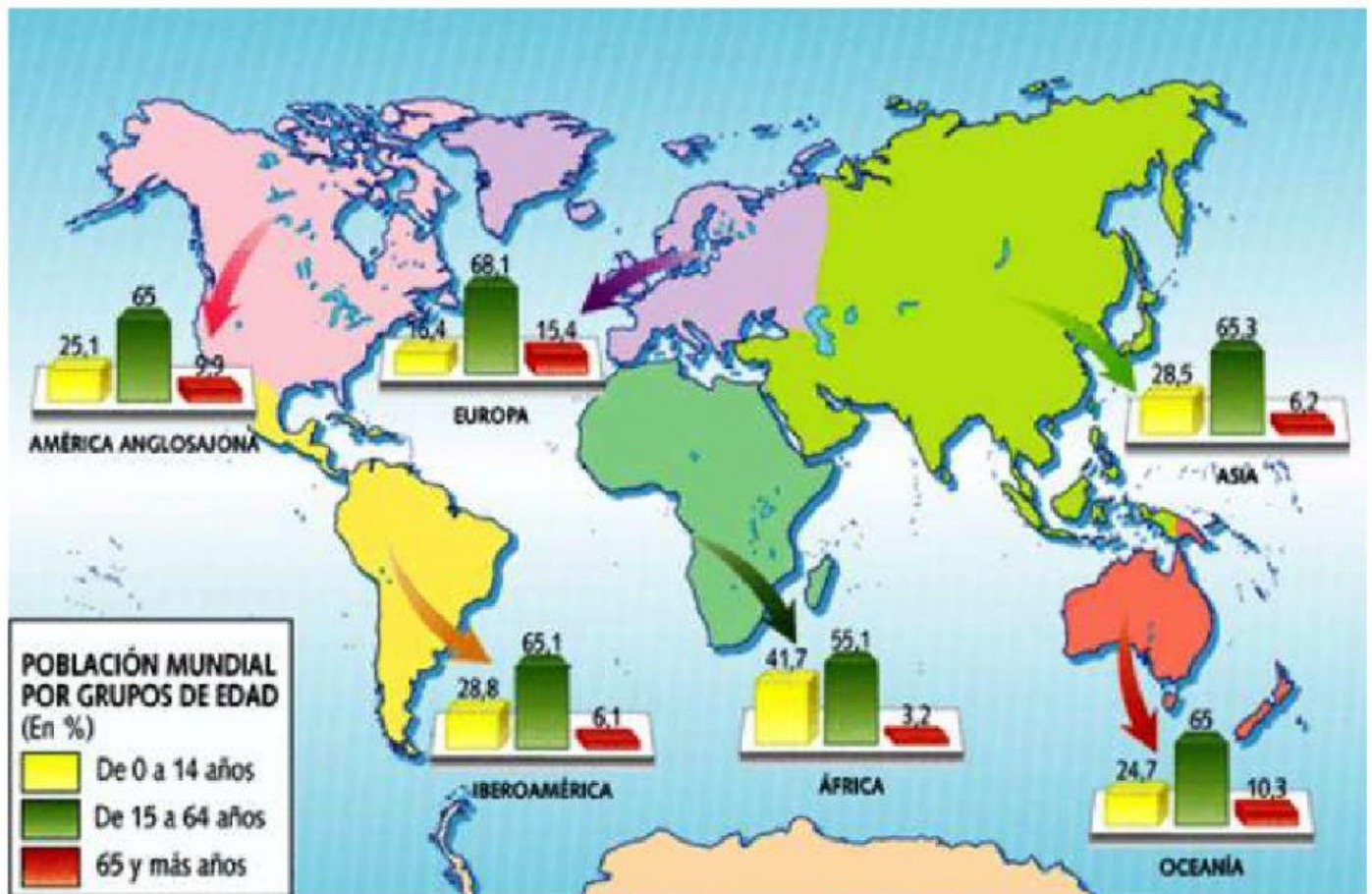
- a. En Europa la esperanza de vida al nacer es de
- b. En la India la esperanza de vida al nacer es de
- c. En Estados Unidos la esperanza de vida al nacer es de
- d. En el Ecuador la esperanza de vida al nacer es de
- e. En África la esperanza de vida al nacer es de
- f. En China la esperanza de vida al nacer es de
- g. En Rusia la Esperanza de vida al nacer es de
- h. En los países ricos y desarrollados la esperanza de vida al nacer es
- i. En los países pobres la esperanza de vida al nacer es

4. OBSERVAR, ANALIZAR EL MAPA Y ESCRIBIR EL PROMEDIO DE HIJOS POR MADRE SEGÚN COMO CORRESPONDA

¿Cuántos hijos tiene una mujer de media en el mundo?
Índice sintético de fecundidad (hijos por mujer)



5. OBSERVAR, ANALIZAR EL MAPA, LEER LOS ENUNCIADOS Y PINCHAR EN LA RESPUESTA CORRECTA



- a. El continente que tiene mayor población de entre 0 a 14 años es
- b. El continente que tiene menor población entre 0 a 14 años es
- c. El continente que tiene más población de la tercera edad es
- d. El continente que tiene menor población de la tercera edad es
- e. El continente que tiene más población de entre 15 a 64 años es
- f. El continente que tiene menos población de entre 15 a 64 años es