

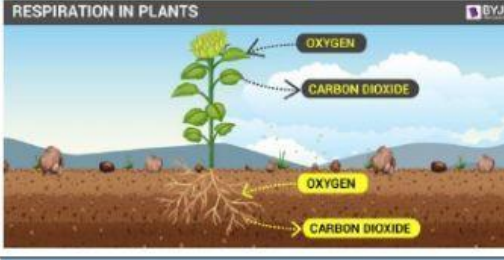




**ВСТАНОВІТЬ ВІДПОВІДНІСТЬ МІЖ ПРОЦЕСАМИ ЖИТТЕДІЯЛЬНОСТІ
ТА ЇХНІМИ НАЗВАМИ**

<p>Дихання</p>		
<p>Транспірація (випаровування)</p>		
<p>Повітряне живлення (фотосинтез)</p>		
<p>Ріст</p>		
<p>Розвиток</p>		

Під час фотосинтезу вуглекислий газ

Під час фотосинтезу кисень

Під час дихання вуглекислий газ

Під час дихання кисень

Під час фотосинтезу глюкоза

Під час дихання глюкоза