






## Đề thi học kì 1 môn Toán lớp 1 năm 2022 - 2023

**Bài 1 (2 điểm):** Điền số thích hợp vào ô trống:

	<input type="text"/>
	<input type="text"/>
	<input type="text"/>
	<input type="text"/>
	<input type="text"/>

**Bài 2 (2 điểm):** Điền số thích hợp vào chỗ chấm (theo mẫu):

Số	Phép tính
5, 3, 8	$3 + 5 = 8$ $8 - 3 = 5$
1, 4, 5	$1 + \dots = \dots$ $\dots - 4 = 1$
2, 4, 6	$2 + \dots = 6$ $6 - \dots = 4$
2, 7, 9	$7 + 2 = \dots$ $9 - 7 = \dots$

**Bài 3 (2 điểm):** Tính nhẩm:

$1 + 4 = \dots$	$2 + 5 = \dots$	$3 + 6 = \dots$
$9 - 4 = \dots$	$8 - 2 = \dots$	$6 - 1 = \dots$

**Bài 4 (2 điểm):**

a) Điền số thích hợp vào chỗ chấm:

10, ....., ....., 7, 6, ....., 4, ....., ....., 1, 0

b) Sắp xếp các số 5, 1, 7, 2 theo thứ tự từ bé đến lớn. Chọn đáp án đúng

A. 1, 2, 7, 5

B. 1, 5, 2, 7

C. 1, 2, 5, 7

D. 7, 5, 2, 1

**Bài 5 (2 điểm):** Hình vẽ dưới đây có bao nhiêu hình tròn, hình vuông và hình chữ nhật?

