

## LEMBAR KERJA PESERTA DIDIK

Kelas/semester : V/Ganjil  
Tema/subtema : 5/1 (Ekosistem/Komponen Ekosistem)  
Nama :  
No. Absen :  
Hari dan Tanggal :

### A. Pilihlah salah satu jawaban yang paling tepat!

1. Interaksi antara makhluk hidup dan benda-benda tak hidup pada sebuah lingkungan disebut ....
  - a. Individu
  - b. Populasi
  - c. Komunitas
  - d. Ekosistem
2. Hewan pemakan tumbuhan disebut ....
  - a. Herbivora
  - b. Karnivora
  - c. Omnivora
  - d. Produsen
3. Hewan yang mengalami metamorfosis sempurna adalah ....
  - a. Kupu-kupu
  - b. Kecoa
  - c. Ayam
  - d. Jangkrik
4. Jenis hewan yang bergantung langsung dengan rumput adalah ....
  - a. Elang dan ular
  - b. Tikus dan beruang
  - c. Kuda dan kambing
  - d. Musang dan kelinci

5. Dalam rantai makanan, padi berkedudukan sebagai ....
- a. Produsen
  - b. Konsumen I
  - c. Konsumen II
  - d. Konsumen III

**B. Jawablah uraian berikut dengan pengetahuan yang kalian pahami!**

1. Apakah yang dimaksud dengan populasi dan komunitas?

Jawaban:

2. Mengapa pada belalang termasuk metamorfosis tidak sempurna?

Jawaban:

3. Berasal dari manakah makanan yang dimakan hewan?

Jawaban:

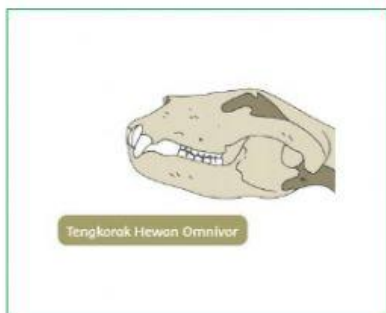
4. Jelaskan perbedaan rantai makan dengan jarring-jaring makanan!

Jawaban:




5. Sebutkan 3 contoh individu!

Jawaban:

C. Tariklah garis untuk menghubungkan tengkorak hewan dengan jenis makanannya, sehingga menemukan jawaban yang tepat!



D. Amati gambar-gambar ekosistem dibawah ini dan berilah nama yang benar masing-masing ekosistem!




Air Tawar

Gurun

Tundra

Padang Rumput

E. Apakah nama gambar-gambar simbiosis dibawah ini! (pilihlah jawaban yang benar)



F. Pilihlah jawaban yang benar dari gambar-gambar dibawah ini!



Populasi

Komunitas

G. Temukan kata-kata dibawah ini!

P	S	G	T	I	K	U	S	E	R
R	O	A	K	P	G	O	C	O	T
O	B	O	M	N	R	D	I	T	Y
D	K	O	N	S	U	M	E	N	U
U	W	E	R	A	M	F	F	E	I
S	J	I	H	D	P	C	H	L	O
E	K	L	M	B	U	S	R	A	P
N	B	U	G	E	T	J	D	N	K
T	F	X	C	V	B	N	M	G	F

PRODUSEN

TIKUS

RUMPUT

KONSUMEN

ELANG