

NUMERACIÓN

DESCOMPOSICIÓN

1.- Descompón estos números de varias maneras. Fíjate en el ejemplo. Puedes hacerlo a tu manera.



$200 + 30 + 5$

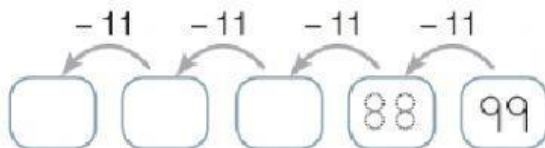
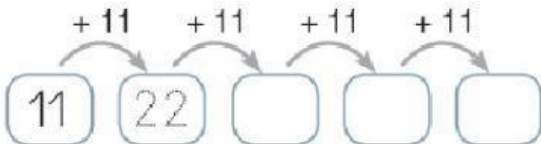
$100 + 100 + 20 + 10 + 5$

$200 + 10 + 10 + 3 + 2$





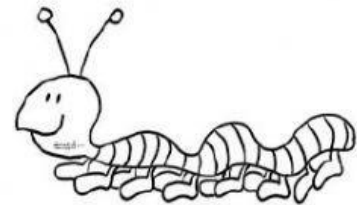
2.- Completa las series.



PATRÓN

$+ 11$

$- 11$



3.- Recuerda las tablas y completa:

$5 \times \square = 35$

$6 \times \square = 24$

$7 \times \square = 56$

4.- Escribe estos números después de componerlos:

• $300 + 100 + 100 + 30 + 2$

• $400 + 200 + 20 + 20 + 1 + 2$

• $10 + 300 + 50 + 2 + 10 + 1$

• $4 + 100 + 10 + 100 + 20 + 2$