

LEMBAR KERJA PESERTA DIDIK

SISTEM PENCERNAAN MANUSIA

Disusun Oleh:
Sinta Putrianiingtyas
(4001417003)



Untuk Kelas VIII
SMP/MTs
SEMESTER 1

Identitas

Nama :

:

Kelas :

:

No.Absen :

:



UNNES

LKPD SISTEM PENCERNAAN MANUSIA



KOMPETENSI DASAR

3.5 Menganalisis sistem pencernaan pada manusia, gangguan yang berhubungan dengan sistem pencernaan, serta upaya menjaga kesehatan sistem pencernaan

4.5 Menyajikan hasil penelusuran informasi tentang gangguan sistem pencernaan atas upaya menjaga sistem pencernaan

INDIKATOR PENCAPAIAN KOMPETENSI

3.5.1 Menganalisis berbagai bahan makanan

3.5.2 Mengidentifikasi bahan makanan melalui uji bahan makanan

3.5.3 Mengurutkan organ-organ sistem pencernaan

3.5.4 menjelaskan fungsi masing-masing organ sistem pencernaan

3.5.5 mengidentifikasi enzim-enzim sistem pencernaan

3.5.6 Mengidentifikasi berbagai penyakit sistem pencernaan


Silahkan Simak Video berikut ini sebelum memulai mengerjakan e-LKPD



Silahkan Tulisan Pendapat Kalian Mengenai Video Tersebut!

Perhatikan jenis-jenis makanan berikut ini, tentukanlah kandungan yang terkandung didalam makanan tersebut?

klik tanda panah kecil dibawah untuk memilih jawaban yang benar.





KEGIATAN 1



"Jodohkan Fungsi Ku"

Penyerapan air

Makanan dicerna secara mekanik

Pengeluaran feses

Pencernaan kimiawi oleh HCL

Penyerapan sari-sari makanan

Penyaluran Makanan

1

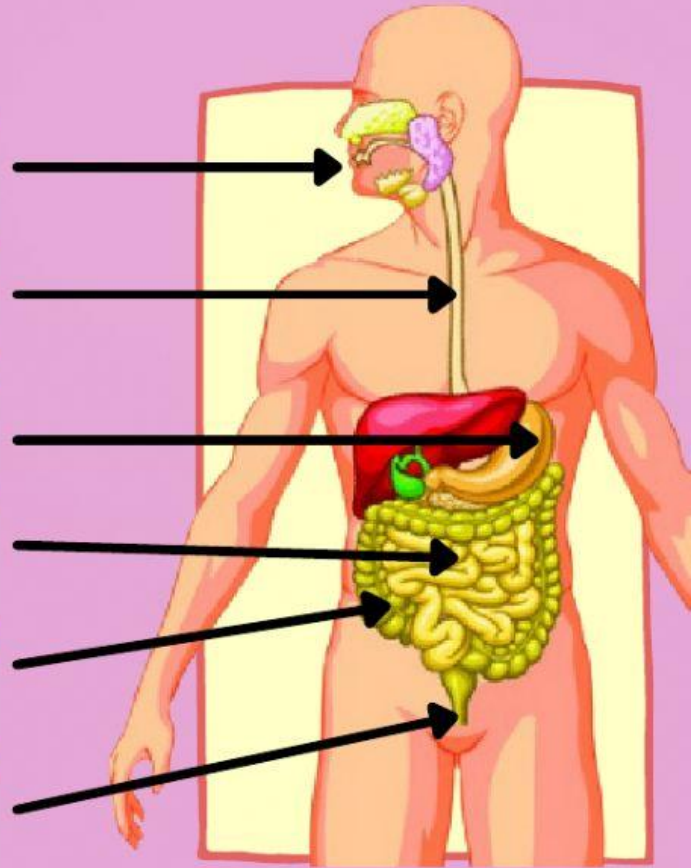
2

3

4

5

6



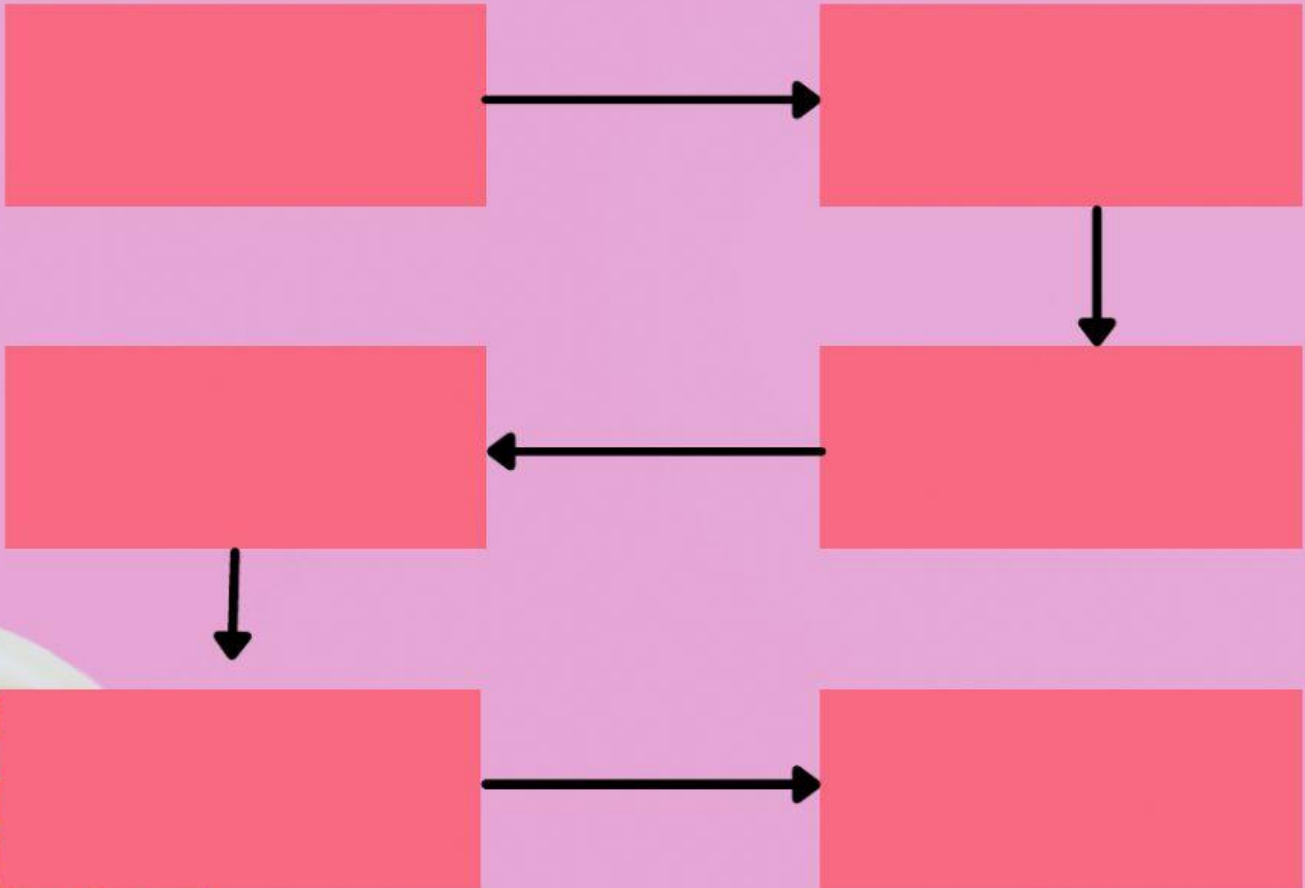
Proses pencernaan ada 2 macam yaitu proses pencernaan secara mekanik dan proses pencernaan secara kimiawi. Jelaskan perbedaannya!

MEKANIK

KIMIAWI



**Bagaimanakah alur Proses Pencernaan?
Coba Lengkapi lah diagram alir berikut !**



Silakan sesuaikan pilihan di bawah ini pada diagram alir diatas!



Kerongkongan



Usus Besar



Usus Halus



Mulut



Lambung



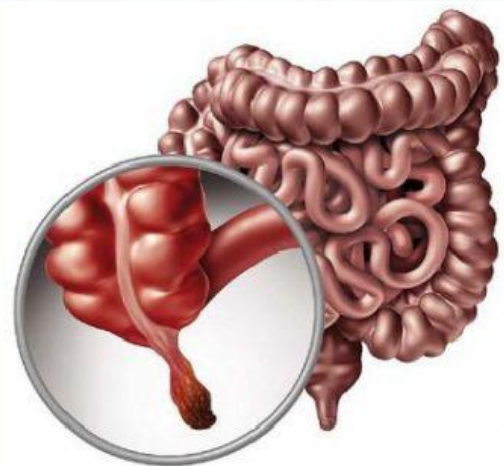
anus



Gangguan yang terjadi akibat infeksi virus paramyxovirus yang menyerang kelenjar liur (kelenjar parotis) di dalam mulut disebut...



Gangguan yang disebabkan karena peradangan yang terjadi pada usus atau apendiks yang merupakan organ berbentuk kantong kecil dan tipis, berukuran sepanjang 5 hingga 10 cm yang terhubung pada usus besar disebut.....



Penyakit pada organ mulut yang disebabkan karena kurangnya vitamin C disebut...

