

NOMBRE: _____

GRADO: _____

TABLA de RECOLECCIÓN de DATOS

Lola está cortando lunares para decorar su carpeta nueva.



Observa:







¿Qué colores de lunares hay?







¿Qué tamaños de lunares hay?

Ahora, mira el color y el tamaño y completa la tabla.

	Amarillos	Verdes	Rojos
Grandes	5		
Pequeños	3		

1. Irene ha anotado cuántos pantalones de cada tipo ha vendido hoy en la tienda. Completa el recuento y completa la tabla.

Pantalones	Largos	Cortos
Azules		
Verdes		
Naranjas		

¿Cuántos pantalones azules ha vendido en total?

INTERPRETAR TABLAS

Samuel, el hermano de Lola, también quiere decorar su carpeta nueva. Recorta las figuras que indica la tabla:

	Círculos	Triángulos	Cuadrados
Rojos	12	15	4
Verdes	14	10	8

¿Cuántos círculos rojos hay?

¿Y triángulos verdes?

¿Cuántos cuadrados usará para decorar? 4 + 8 =

¿Cuántas figuras verdes usará? 14 + 10 + 8 =

2. Luis ha vendido hoy camisetas de manga corta y larga y de distintos colores como muestra la tabla:

Camisetas	Manga larga	Manga corta
Rojas	14	10
Azules	6	15
Amarillas	4	2

¿Cuántas camisetas amarillas de manga larga ha vendido?

¿Y de manga corta azules?

¿Cuántas camisetas rojas ha vendido?

¿Cuántas camisetas de manga corta?