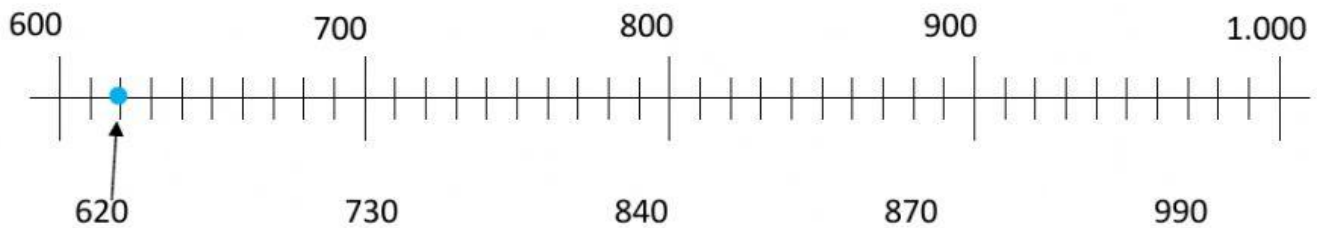
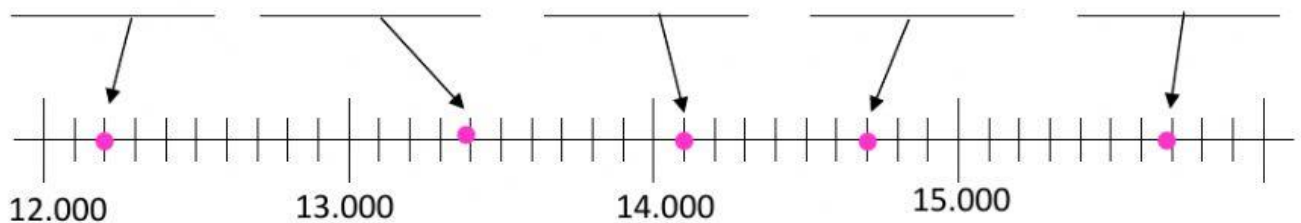


Nombre: _____ Fecha: _____

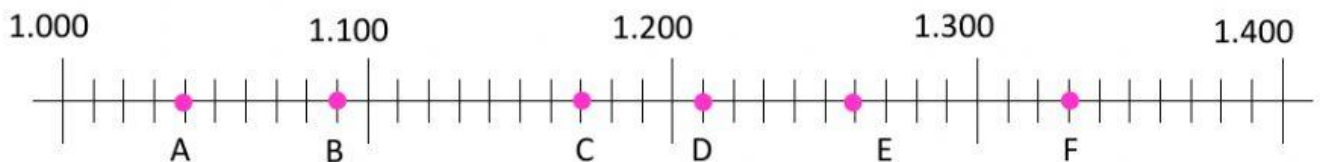
1. Une los números con la línea donde estarían como en el ejemplo.



2. Elige el número correcto:



3. Mira las letras, escribe que número representa cada letra y contesta.



A \Rightarrow _____ B \Rightarrow _____ C \Rightarrow _____

D \Rightarrow _____ E \Rightarrow _____ F \Rightarrow _____

- ¿Qué número de los anteriores está entre 1.100 y 1.200? _____

- ¿A cuál se acerca más? _____

- ¿Qué número de los anteriores está entre 1.300 y 1.400? _____

- ¿A cuál se acerca más? _____