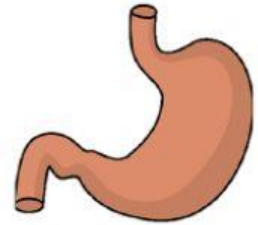
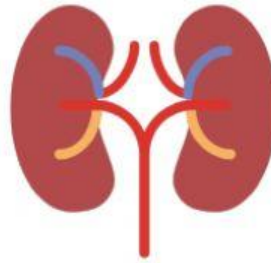
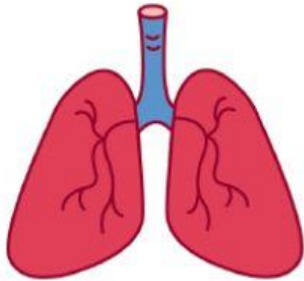


# Unidad 2

## El cuerpo humano

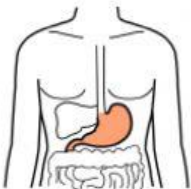
1. ¿Cómo se llaman estos órganos? Selecciona:



2. Une con flechas cada órgano del aparato digestivo con su función:



Tubo por el que se conecta la boca con el estómago.



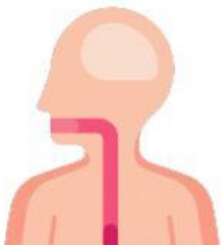
Órgano por el que los nutrientes pasan a la sangre.



Mezcla la comida con los jugos gástricos.



Solidifica la comida para eliminarlas por el ano.



Tritura la comida con los dientes y lo mezcla con la saliva.

### 3. Arrastra el órgano a su lugar correspondiente:

pulmones

tráquea

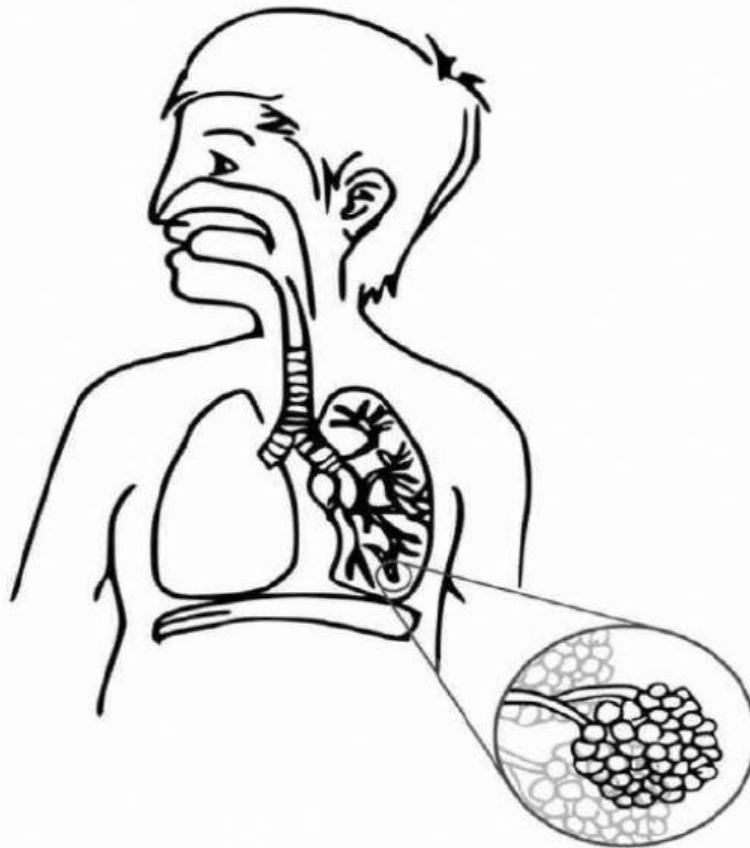
bronquios

nariz

boca

alveolos

diafragma



### 4. Selecciona Verdadero o Falso:

Los riñones no limpian la sangre.

Los uréteres son tubos que conectan los riñones con la vejiga.

La vejiga almacena la comida.

Los pulmones recogen dióxido de carbono y eliminan oxígeno.

Los alveolos se encuentran en los pulmones.

**5. Organiza los órganos. Selecciona si se encuentran en el cuerpo de la mujer, del hombre o de ambos:**

pulmones

nariz

ovarios

pene

testículos

útero

vagina

riñones

corazón

venas

vasos sanguíneos

