


Pictogramas

Observa el pictograma. Luego, **escribe** V (verdadero) o F (falso), según corresponda.

Colores de gatos en la exhibición felina	Total
Negros	 
Dorados	  
Grises	    
Rayados	    
Blancos	      

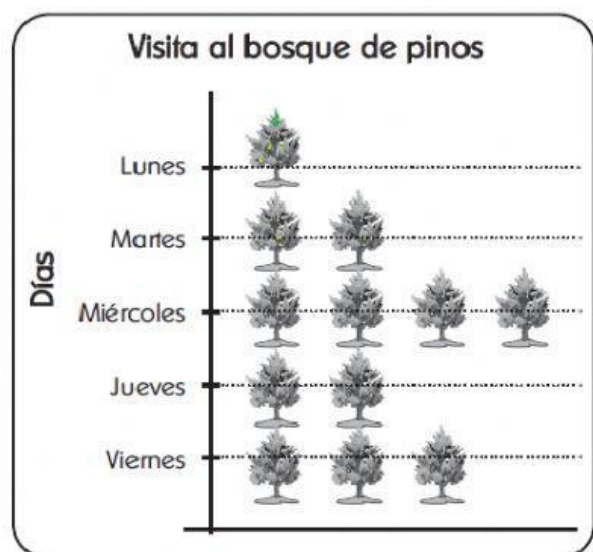



 representa 20 gatos

- En la exhibición felina hay 22 clases de gatos. ()
- Hay 40 gatos blancos más que dorados. ()
- Para igualar el número de gatos rayados debemos unir la cantidad de gatos negros con la de los grises. ()
- El gato que más abunda es el de color blanco. ()
- Hay 220 gatos en la exhibición. ()
- Los gatos blancos menos los rayados hacen el número de gatos grises. ()

Observa la gráfica y **escribe** V (verdadero) o F (falso), según corresponda.

- El día lunes, los visitantes solo fueron 12 niños. ()
- El viernes asistió el doble de visitantes que el día jueves. ()
- El martes asistió la mitad de visitantes que el miércoles. ()
- El jueves asistieron 18 personas. ()
- El martes asistieron 2 docenas de personas. ()
- El miércoles fue el día de mayor asistencia. ()



 representa 1 docena de niños