

1. ¿Hacia qué lado está más elevada la Meseta?

A Hacia el oeste.

B Hacia el norte.

C Hacia el este.

2. ¿Qué cordillera interior divide en dos la Meseta?

A Los Montes de Toledo.

B El Sistema Central.

C El Sistema Ibérico.

3. ¿Cómo se llaman las dos grandes depresiones españolas?

A Depresión del Tajo y depresión del Guadalquivir.

B Depresión del Ebro y depresión del Guadiana.

C Depresión del Ebro y depresión del Guadalquivir.

4. ¿En qué archipiélago se encuentra el pico más alto de España?

A En el archipiélago balear.

B En el archipiélago mallorquín.

C En el archipiélago canario.

5. ¿Qué mares y océanos bañan las costas españolas?

A

El mar Cantábrico y el océano Atlántico.

B

El océano Atlántico y el mar Mediterráneo.

C

El mar Cantábrico, el océano Atlántico y el mar Mediterráneo.

6. Las costas españolas se dividen en...

A

costa cantábrica, costa atlántica y costa mediterránea.

B

costa cantábrica, costa andaluza y costa mediterránea.

C

costa gallega, costa atlántica y costa mediterránea.

7. ¿Qué vertientes existen en la península ibérica?

A

La de Galicia, la interior peninsular y la cantábrica.

B

La cantábrica, la oceánica y la mediterránea.

C

La cantábrica, la atlántica y la mediterránea.

8. ¿Qué tipos de clima se diferencian en España?

A

Oceánico (de costa y de interior), de montaña, canario y mediterráneo de interior.

B

Oceánico, de montaña, subtropical y mediterráneo (de costa y de interior).

C

Oceánico, canario, mediterráneo de costa y mediterráneo de interior.

9. ¿Qué significa que la vegetación subtropical es rica en especies endémicas?

A

Que hay especies que no crecen en otro lugar del mundo.

B

Que tiene especies que se encuentran fácilmente en otros lugares.

C

Que hay especies que solo duran una estación del año.

10. ¿Cuándo discurre el agua por barrancos, ramblas y torrentes?

A

Cuando se produce el deshielo.

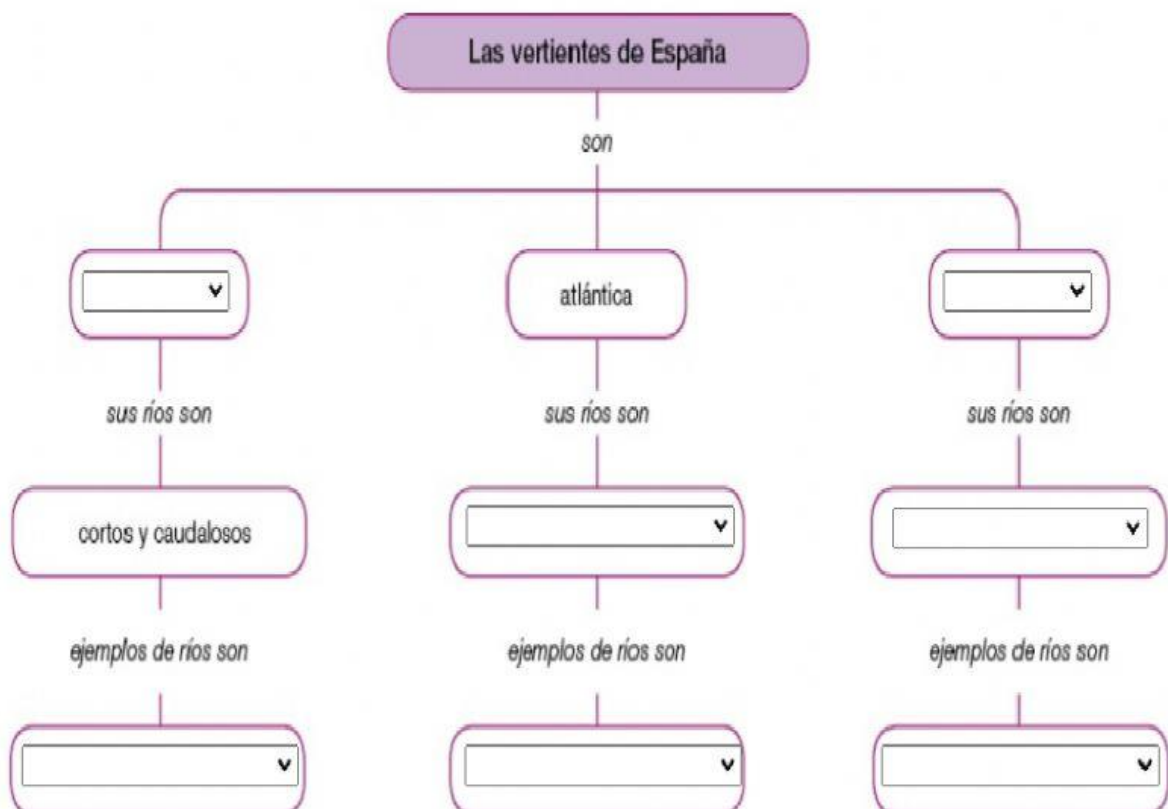
B

Cuando llueve.

C

Cuando se desbordan los ríos y el mar.

Elige la opción correcta en cada caso.




Identifica la vertiente a la que pertenece cada río.

Río	Vertiente cantábrica	Vertiente mediterránea	Vertiente atlántica
Guadalquivir	<input type="radio"/>	<input type="radio"/>	<input type="radio"/>
Navia	<input type="radio"/>	<input type="radio"/>	<input type="radio"/>
Turia	<input type="radio"/>	<input type="radio"/>	<input type="radio"/>
Duero	<input type="radio"/>	<input type="radio"/>	<input type="radio"/>
Nervión	<input type="radio"/>	<input type="radio"/>	<input type="radio"/>
Júcar	<input type="radio"/>	<input type="radio"/>	<input type="radio"/>
Miño	<input type="radio"/>	<input type="radio"/>	<input type="radio"/>
Nalón	<input type="radio"/>	<input type="radio"/>	<input type="radio"/>
Ebro	<input type="radio"/>	<input type="radio"/>	<input type="radio"/>
Guadiana	<input type="radio"/>	<input type="radio"/>	<input type="radio"/>
Eo	<input type="radio"/>	<input type="radio"/>	<input type="radio"/>
Segura	<input type="radio"/>	<input type="radio"/>	<input type="radio"/>

Selecciona las tres afirmaciones correctas sobre el clima de montaña.

- ☐ A Los veranos son calurosos y los inviernos, templados.
- ☐ B Las temperaturas son muy bajas en invierno y frescas en verano.
- ☐ C Las precipitaciones son abundantes y en invierno nieva.
- ☐ D Se da por encima de los 1.500 metros de altitud.
- ☐ E Apenas hay diferencias estacionales en las temperaturas.



Clasifica las cadenas montañosas según su ubicación con respecto a la Meseta.

Sistema Costero-Catalán

Sistema Ibérico

Pirineos

Montes de Toledo

Macizo Galaico

Sierra Morena

Sistemas Béticos

Cordillera Cantábrica

Sistema Central

MONTAÑAS INTERIORES

MONTAÑAS QUE RODEAN

MONTAÑAS EXTERIORES

Coloca cada unidad de relieve en su lugar correspondiente.

Sierra de Tramuntana

Montes de León

Montes de Toledo

Macizo Galaico

Pirineos

Sierra Morena

Sistema Ibérico

Montes Vascos

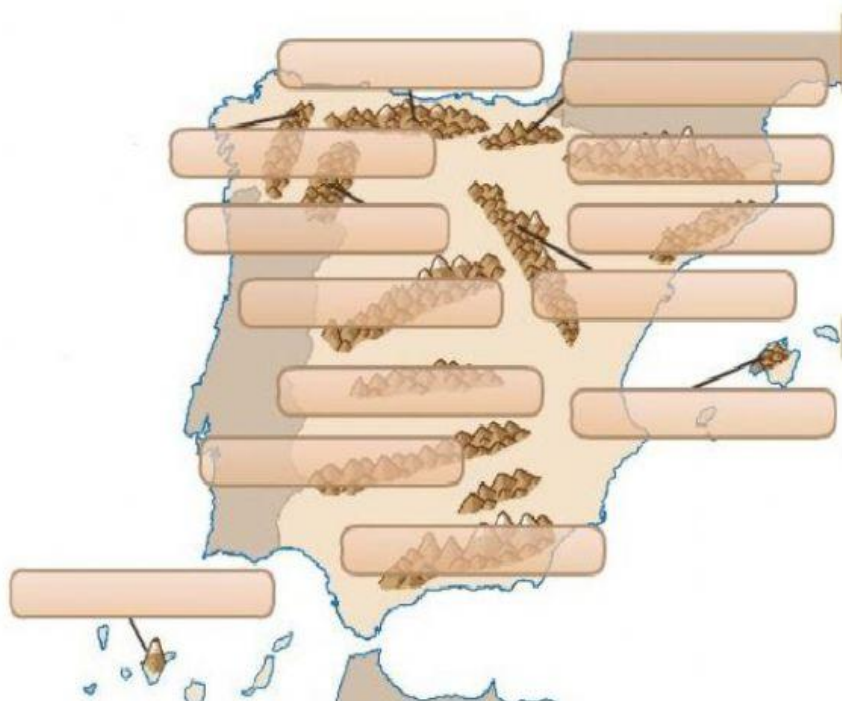
Cordillera Cantábrica

Sistema Central

Teide

Sistema Costero-Catalán

Sistemas Béticos



Selecciona, de entre las opciones, las características de los ríos de la vertiente cantábrica.

escasa pendiente

fuerte pendiente

caudal escaso


caudal abundante

caudal regular

caudal irregular

ríos largos

ríos cortos



Relaciona las características con su costa correspondiente.

a) En esta costa predominan los acantilados:

b) En esta costa se distinguen cuatro zonas:

c) Destacan, en esta costa, amplias rías y otros accidentes geográficos:

d) Esta costa ocupa tres zonas de España muy distintas:

e) Las costas gallega, andaluza y canaria pertenecen a esta costa:

f) La costa de Ceuta y de Melilla es una de las zonas de esta costa:

g) Es la más extensa: