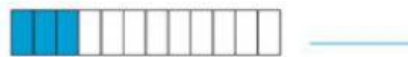
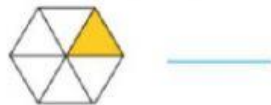



Φύλλο Εργασίας

Οι Κλασματικοί Αριθμοί

1. Να γράψετε τα κλάσματα που παρουσιάζει η σκιασμένη επιφάνεια, όπως στο παράδειγμα.



2. Να σκιάσετε κάθε επιφάνεια, όπως στο παράδειγμα.



3. Να γράψετε το κλάσμα που αναπαριστά κάθε γράμμα στις παρακάτω αριθμογραμμές.

