

Họ và tên: ..... Lớp: .....

## PHIẾU ÔN TẬP CUỐI TUẦN 9

### Mục tiêu

- ✓ Em làm được những gì?
- ✓ Nhân với số có một chữ số trong phạm vi 1000

### PHẦN 1. TRẮC NGHIỆM

Bài 1. Điền Đ, S:

$$\begin{array}{r} 23 \\ \times 4 \\ \hline 82 \end{array} \quad \square$$

$$\begin{array}{r} 12 \\ \times 5 \\ \hline 50 \end{array} \quad \square$$

$$\begin{array}{r} 45 \\ \times 2 \\ \hline 90 \end{array} \quad \square$$

$$\begin{array}{r} 236 \\ \times 3 \\ \hline 698 \end{array} \quad \square$$

Bài 2. Khoanh vào đáp án đúng

1. Tích của 45 và 5 là:

- A. 205                      B. 215                      C. 225                      D. 220

2. Một lớp có 36 học sinh. Hỏi năm lớp như thế có bao nhiêu học sinh?

- A. 150 học sinh      B. 160 học sinh      C. 170 học sinh      D. 180 học sinh

3. Một thùng đựng nước đựng được 48l nước. Hỏi 3 thùng như thế đựng được bao nhiêu lít nước?

- A. 51l                      B. 124l                      C. 134l                      D. 45l

4. Oliver và Otto có chiều cao bằng nhau. Bert thấp hơn Ben. Ben cao hơn Otto. Oliver thấp hơn Bert. Hỏi ai là người cao nhất?

- A. Oliver                      B. Otto                      C. Bert                      D. Ben

5. Tích của hai số là thừa số thứ nhất. Thừa số thứ hai bằng bao nhiêu?

- A. 0                      B. 1                      C. 10                      D. Không xác định được

6. Cho dãy số: 1 ; 3 ; 9 ; 27; 81; .... Số thứ 6 của dãy số là bao nhiêu?

- A. 82                      B. 108                      C. 90                      D. 243

Bài 3. Nói



$123 \times 2$



$22 \times 5$



$52 \times 3$



$214 \times 3$



$39 \times 4$



$321 \times 2$









$82 \times 3$

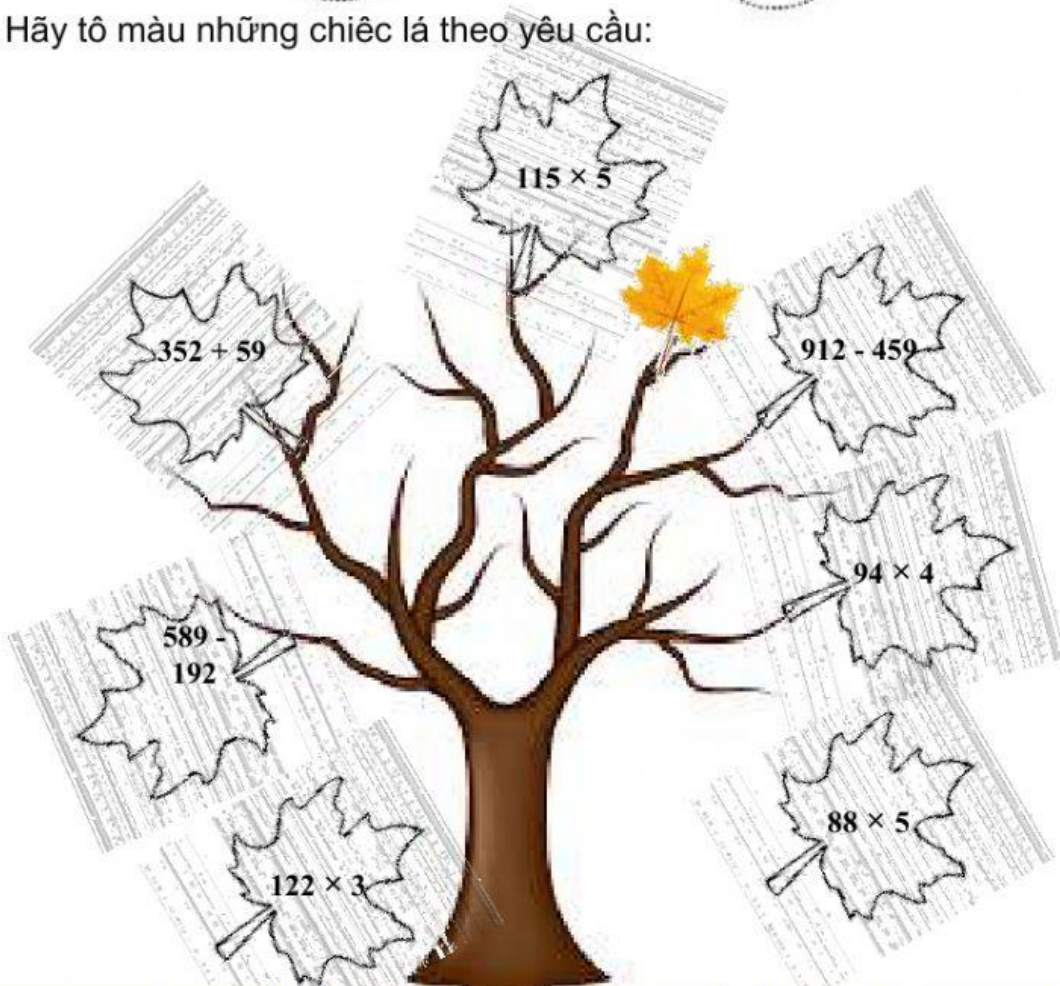


$55 \times 2$

**Bài 4.** Bạn hãy tính kết quả rồi đánh số thứ tự từ bé đến lớn vào  bên cạnh chú bướm:

 <input type="radio"/>	$32 \times 3 \times 4$	 <input type="radio"/>	$55 + 83 \times 2$	 <input type="radio"/>	$100 \times 3 - 105$
 <input type="radio"/>	$54 \times 5$	 <input type="radio"/>	$290 - 12 \times 4$	 <input type="radio"/>	$48 \times 2 + 96$

**Bài 5.** Hãy tô màu những chiếc lá theo yêu cầu:



$115 \times 5$   
 $352 + 59$   
 $912 - 459$   
 $589 - 192$   
 $94 \times 4$   
 $122 \times 3$   
 $88 \times 5$

300 < lá nâu < 400

400 < lá xanh < 500

500 < lá vàng < 600



## PHẦN 2. TỰ LUẬN



Bài 1. Đặt tính rồi tính:

$$\begin{array}{r} 54 \times 5 \\ \text{.....} \\ \text{.....} \\ \text{.....} \\ \text{.....} \end{array}$$

$$\begin{array}{r} 24 \times 3 \\ \text{.....} \\ \text{.....} \\ \text{.....} \\ \text{.....} \end{array}$$

$$\begin{array}{r} 37 \times 2 \\ \text{.....} \\ \text{.....} \\ \text{.....} \\ \text{.....} \end{array}$$

$$\begin{array}{r} 98 \times 4 \\ \text{.....} \\ \text{.....} \\ \text{.....} \\ \text{.....} \end{array}$$

$$\begin{array}{r} 264 \times 3 \\ \text{.....} \\ \text{.....} \\ \text{.....} \\ \text{.....} \end{array}$$

$$\begin{array}{r} 151 \times 4 \\ \text{.....} \\ \text{.....} \\ \text{.....} \\ \text{.....} \end{array}$$

$$\begin{array}{r} 409 \times 2 \\ \text{.....} \\ \text{.....} \\ \text{.....} \\ \text{.....} \end{array}$$

$$\begin{array}{r} 130 \times 5 \\ \text{.....} \\ \text{.....} \\ \text{.....} \\ \text{.....} \end{array}$$

Bài 2. Tính giá trị của biểu thức:

$$55 \times 5 + 6$$

$$98 + 28 \times 5$$

.....  
.....  
.....

$$263 \times (101 - 98)$$

$$142 \times (2 + 3) + 108$$

.....  
.....  
.....

Bài 3. Điền số thích hợp vào chỗ chấm:

$$\boxed{26} \xrightarrow{\times 4} \bigcirc \xrightarrow{- 85} \triangle \xrightarrow{\times 5} \square \xrightarrow{+ 115} \bigcirc$$

Bài 5. Hỏi 4 tuần đội công nhân sản xuất được bao nhiêu sản phẩm biết mỗi tuần họ sản xuất được 54 sản phẩm?

Bài giải

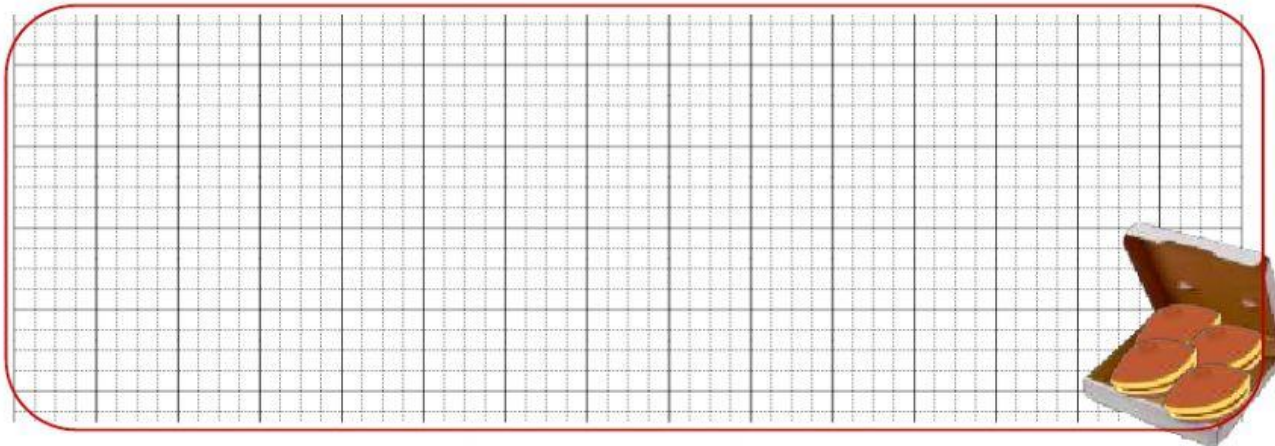
.....  
.....  
.....  
.....  
.....  
.....  
.....  
.....  
.....  
.....





**Bài 9.** Mẹ Lan làm bánh và nhờ Lan xếp bánh vào hộp. Sau khi xếp xong Lan đếm được có 4 hộp, mỗi hộp có 12 chiếc bánh. Hỏi mẹ Lan làm được tất cả bao nhiêu chiếc bánh?

**Bài giải**



**Bài 10.** Nhà của bạn Chuột đi qua các phép tính có kết quả lớn hơn 200. Hãy giúp Chuột tìm đúng đường về ngôi nhà của mình nhé!

