

Senda
KNOWMADS[®]
Elementary

Guía de aprendizaje

4^{to} de
primaria

Matemáticas

Trimestre I



Instituto
Senda

www.institut SENDA **LIVEWORKSHEETS**

I.- **Anota** qué cantidades se representan en las siguientes notaciones desarrolladas y viceversa.

$4,000 + 200 + 40 + 3$

$50 + 20,000 + 300 + 7,000 + 8$

$3 \times 1000 + 2 \times 100 + 4 \times 10 + 7 \times 1$

II.-**Completa** la tabla, anotando la cantidad que le sobra o le falta de acuerdo al dinero que tiene cada niño para comprar un regalo.

Dinero que tiene cada niño	Regalo que quiere comprar	Le falta o le sobra	¿Cuánto?
María tiene \$250	pulsera		
Carmen tiene \$175	muñeca		
Omar tiene \$300	patines		
Luis tiene \$200	manopla		

\$350



\$165



\$650



\$260



III.- Escribe el nombre de las siguientes cantidades y viceversa. Recuerda practicar todas las cantidades que puedas.

42,603

26,345

Doce mil cuatro

Quince mil doscientos noventa y tres

IV.- Observa el siguiente croquis y responde:

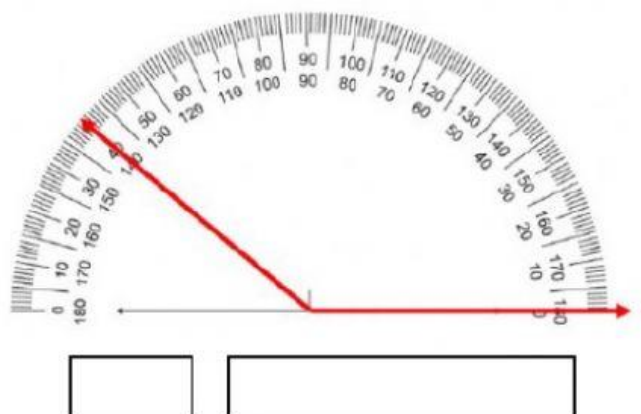
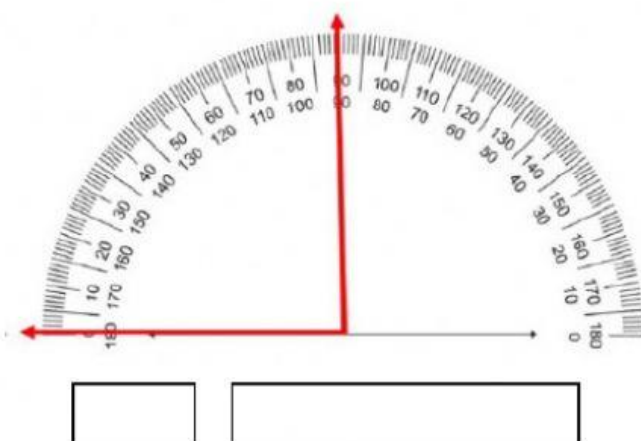
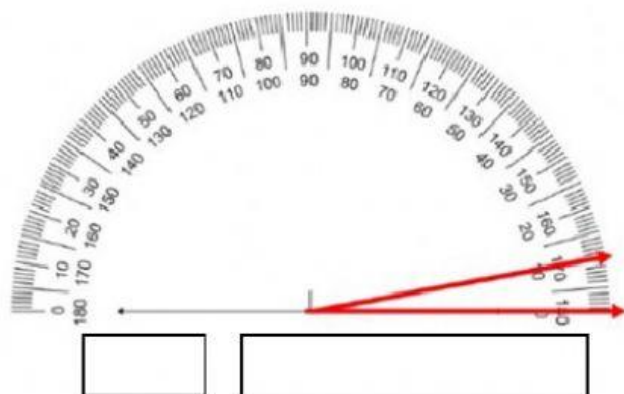
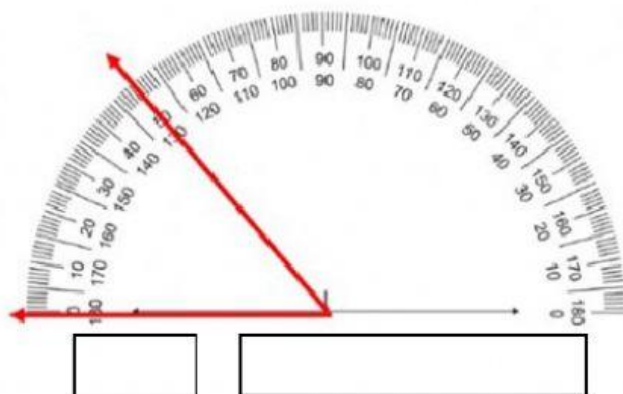


Describe donde está el centro comercial:

Describe cómo llegar de la florería al salón de eventos:



V.- Observa los siguientes ángulos, **escribe** su medida y qué tipo de ángulo es.




VI.- Lee y responde el siguiente problema:

Una vaca produce 60 litros de leche en 4 días, ¿cuántos días se necesitan para producir 300 litros? **Completa** la tabla y **anota** la respuesta.

Días		8	12		20	24	
Producción de leche							420



VII.- Observa las figuras y selecciona los que sean cuadriláteros.



VIII.- Resuelve las siguientes divisiones y escribe el resultado.

- $356 \div 8 =$
- $759 \div 6 =$
- $189 \div 15 =$
- $468 \div 22 =$
- $931 \div 30 =$



IX.- Analiza los siguientes problemas, selecciona o anota la respuesta correcta:

1.- En una finca hay 256 árboles, si cada uno tiene 25 manzanas ¿Cuántas manzanas hay en total?

a) $256 + 25 = 281$

b) $256 \times 25 = 6,400$

c) $256 \div 25 = 10$

2.- Luisa ahorró \$2,350 más que Bladimir. Si Bladimir ahorró \$1,540 ¿Cuánto ahorró en total Luisa?

a) \$3, 809

b) \$3, 870

c) \$ 3, 890

3.- Mario tiene 7 años más que Lupita, quien tiene 68 años menos que su abuelo.

a) ¿Qué edad tiene Lupita si su abuelo tiene 92 años? _____

b) ¿Qué edad tiene Mario? _____

4.- La maestra tiene 658 hojas y las va a repartir entre sus 19 alumnos. ¿Cuántas hojas le tocará a cada uno?

a) 36

b) 32

c) 34

