

## Ubicación de puntos en una cuadrícula

1. Observa las cuadrículas y escribe el punto donde se ubica cada uno de los objetos que aparecen en ellas.

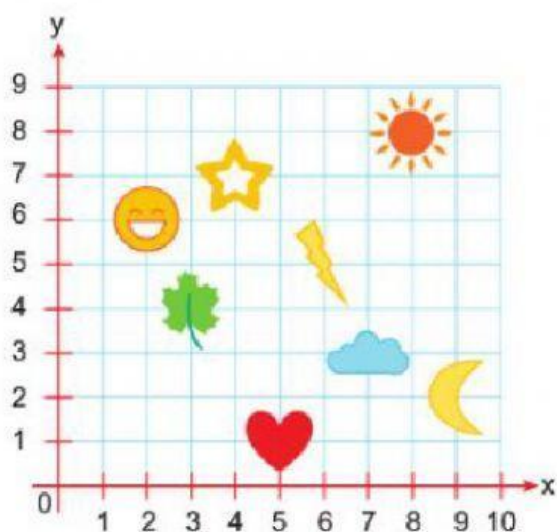


Figura	Ubicación
	( ; )
	( ; )
	( ; )
	( ; )

Figura	Ubicación
	( ; )
	( ; )
	( ; )
	( ; )

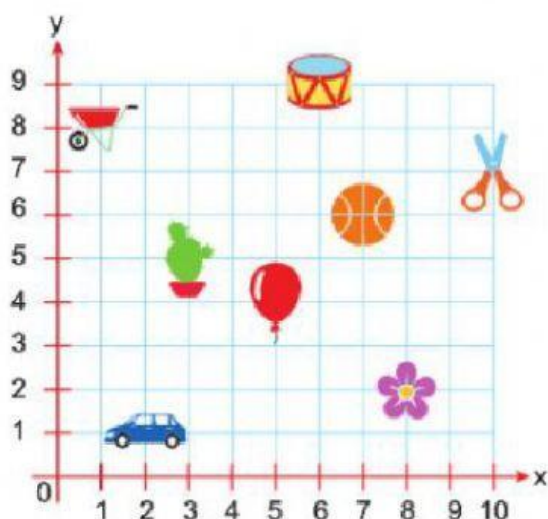


Figura	Ubicación
	( ; )
	( ; )
	( ; )
	( ; )

Figura	Ubicación
	( ; )
	( ; )
	( ; )
	( ; )

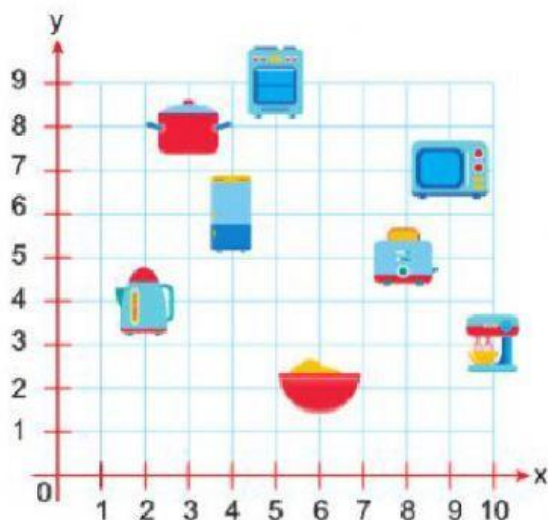


Figura	Ubicación
	( ; )
	( ; )
	( ; )
	( ; )

Figura	Ubicación
	( ; )
	( ; )
	( ; )
	( ; )