



Senda
KNOWMADS[®]
Elementary



Guía de aprendizaje

3^{ero} de
primaria

Sinaloa

Trimestre I



Instituto
Senda

"Por el aprender a dar, más que por el recibir"



LIVEWORKSHEETS

En el siguiente mapa de la República Mexicana, localiza el estado de Sinaloa (márcalo con ); después selecciona los estados que colindan con Sinaloa.




ESTADO

Mi País es: _____

Mi Estado es: _____

Mi Municipio es: _____



¿Conoces los nombres de los municipios de Sinaloa? agrúpalos en el recuadro de color azul.

Badiraguato Ahome Michoacán
Concordia Angostura Veracruz
Distrito Federal Puerto Vallarta Choix
Tamaulipas Cosalá Chihuahua
Culiacán El Fuerte Polo Sur Elota
Escuinapa Guasave Sinaloa de Leyva Mazatlán
Mocorito Navolato El Rosario
Salvador Alvarado San Ignacio

