

LEMBAR KERJA PESERTA DIDIK 3




Mapel : IPAS

Kelas : 6

LEMBAR KERJA PESERTA DIDIK

PETUNJUK

Berikut ini cara mengerjakan LKPD

- Peserta didik mendengarkan guru tentang arahan melakukan penyelidikan terhadap masalah
- Peserta didik menjawab pertanyaan pada tempat yang telah disediakan
- Peserta didik menyelesaikan serangkaian LKPD yang meliputi rotasi dan revolusi bumi, rotasi dan revolusi bulan, gerhana matahari, serta gerhana bulan
- Peserta didik menekan tombol "Finish"  setelah menyelesaikan seluruh LKPD
- Peserta didik mengisi data di bawah ini untuk mengirimkan hasil LKPD kepada guru

Enter your full name:

***Nama Lengkap**

Group/level: *** VI**

School subject: ***IPAS**

Send

6. Tekan tombol "Send" untuk mengirimkan hasil LKPD kepada guru

LEMBAR KERJA PESERTA DIDIK

Langkah Kegiatan

- Tulislah nama dan kelas pada tempat yang telah disediakan
- Seret dan lepaslah nama planet ke gambar yang tepat agar posisi planet membentuk gerhana matahari
- Tulislah bagian bagian dari gerhana matahari dan bulan pada tempat yang telah disediakan

LKPD (INDIVIDU)

Gerhana Matahari

Anggota Kelompok


- 1.
- 2.

Kelas :

Petunjuk

Seret dan lepas nama planet ke gambar yang tepat agar posisi planet membentuk gerhana matahari

Gerhana Matahari



Bulan

Matahari

Bumi

LKPD (INDIVIDU)

Gerhana Matahari

Anggota Kelompok

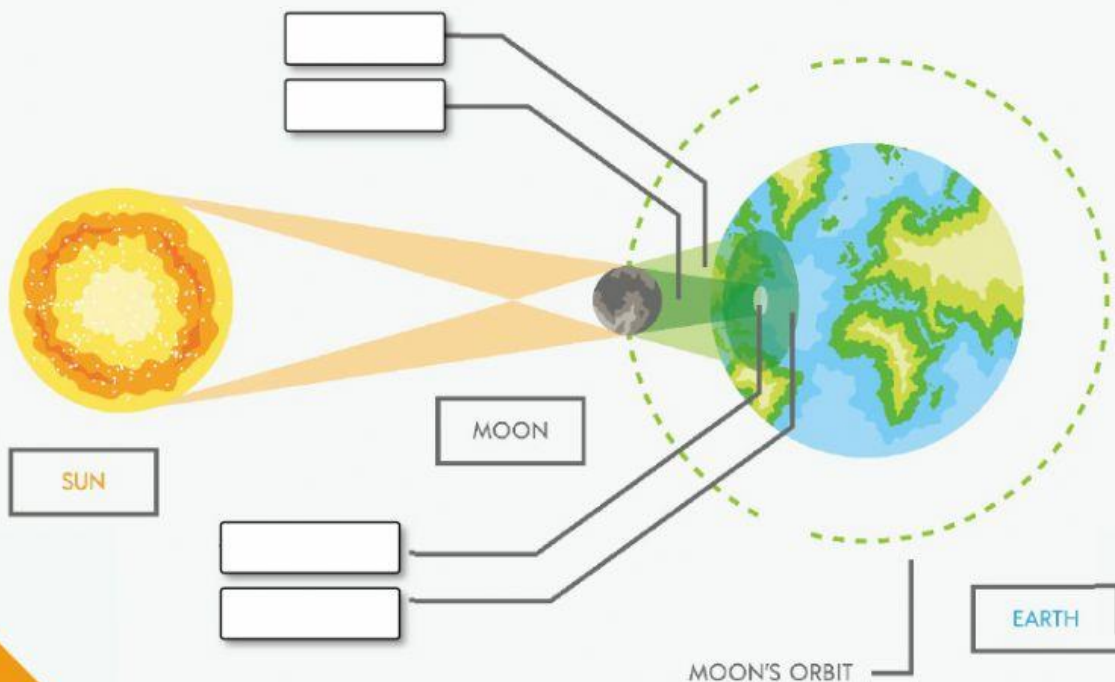
- 1.
- 2.

Kelas :

Petunjuk

Tulislah bagian bagian dari gerhana matahari pada tempat yang telah disediakan

Gerhana Matahari



LKPD (INDIVIDU)

Gerhana Bulan

Anggota Kelompok


- 1.
- 2.

Kelas :

Petunjuk

Seret dan lepas nama planet ke gambar yang tepat agar posisi planet membentuk gerhana bulan

Gerhana Bulan



Bulan

Matahari

Bumi

LKPD (INDIVIDU)

Gerhana Bulan

Anggota Kelompok

- 1.
- 2.

Kelas :

Petunjuk

Tulislah bagian bagian dari gerhana matahari pada tempat yang telah diswdiakan

Gerhana Matahari

