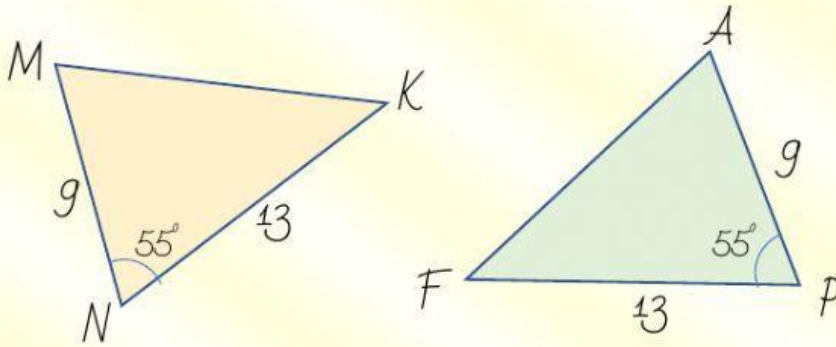


Фамилия Имя:

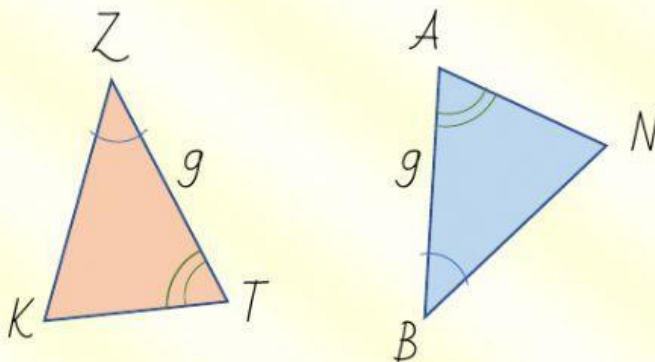
«Первый и второй признаки равенства треугольников»

1. Какой угол треугольника MNK равен углу F треугольника FAP ?



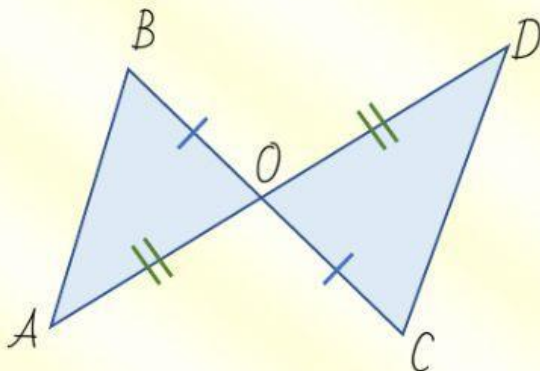
Ответ:

2. Какая сторона треугольника ZKT равна стороне NB треугольника ABN ?



Ответ:

3. Какой угол треугольника ABO равен углу C треугольника COD ?



Ответ: