


	INSTITUCIÓN EDUCATIVA CIUDAD DE CARTAGO Nit. 836000146-1 Resolución de aprobación No.1669 del 3 Sep./2002	Página 1 de 4
		CÓDIGO: 250.4.10.01
	Pruebas Icfes Institucionales	VERSION 1
		Fecha de Aprobación: 09/09/2011

Grado 1° – Matemáticas – Diana Carolina Rendón


1. Cuenta los conejos y elige la opción correcta.

- a) 3
- b) 4
- c) 5
- d) 6
- e) 7



2. Cuenta las gallinas y elige la opción correcta.

- a) 9
- b) 8
- c) 7
- d) 6
- e) 5



3. ¿Cuál número hace falta? Elije la opción correcta.

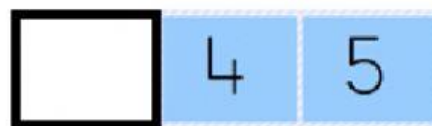
- a) 7
- b) 3
- c) 9
- d) 5
- e) 1



4. ¿Cuál número va antes? Elije la opción correcta.

- a) 10
- b) 8
- c) 3
- d) 4
- e) 6

antes



5. ¿Cuál es el número que va después? Elije la opción correcta.

- a) 6
- b) 7
- c) 3
- d) 5
- e) 10

después



	INSTITUCIÓN EDUCATIVA CIUDAD DE CARTAGO Nit. 836000146-1 Resolución de aprobación No.1669 del 3 Sep./2002	Página 2 de 4
		CÓDIGO: 250.4.10.01
	Pruebas Icfes Institucionales	VERSION 1
		Fecha de Aprobación: 09/09/2011

Grado 1° – Castellano – Diana Carolina Rendón

1. Elije la opción con el nombre de la imagen.

- a) Ca-ma
- b) Lla-ma
- c) Pa-la
- d) Ma-le-ta
- e) Ba-lle-na



2. Elije la opción con el nombre de la imagen.

- a) Ta-za
- b) Ca-sa
- c) Ma-pa
- d) Va-ca
- e) Pa-ta



3. Elije la opción con el nombre de la imagen.

- a) Ma-ta
- b) Da-do
- c) Ga-ta
- d) Ca-sa
- e) Ve-la




4. Elije la opción con el nombre de la imagen.

- a) Ta-za
- b) Pa-to
- c) Ca-rro
- d) Sa-la
- e) Da-ma



5. Elije la opción con el nombre de la imagen.

- a) Ba-ta
- b) Ca-ma
- c) Ha-da
- d) Va-ca
- e) Sa-po



	INSTITUCIÓN EDUCATIVA CIUDAD DE CARTAGO Nit. 836000146-1 Resolución de aprobación No.1669 del 3 Sep./2002	Página 3 de 4
		CÓDIGO: 250.4.10.01
	Pruebas Icfes Institucionales	VERSION 1
		Fecha de Aprobación: 09/09/2011

Grado 1° – Naturales – Diana Carolina Rendón

1. Elije la opción que representa el sentido que está usando la niña.

- a) Visión
- b) Olfato
- c) Gusto
- d) Oído
- e) Tacto



2. Elije la opción que representa el sentido que está usando la niña.

- a) Visión
- b) Olfato
- c) Gusto
- d) Oído
- e) Tacto



3. Elije la opción que representa el sentido que está usando la niña.

- a) Visión
- b) Olfato
- c) Gusto
- d) Oído
- e) Tacto



4. Elije la opción que representa el órgano que está usando la niña.

- a) Ojos
- b) Boca
- c) Nariz
- d) Oídos
- e) Piel



5. Elije la opción que representa el órgano que está usando la niña.

- a) Ojos
- b) Boca
- c) Nariz
- d) Oídos
- e) Piel



Imágenes tomadas de: <https://materialdeaprendizaje.com/los-cinco-sentidos-3-anos/>

	INSTITUCIÓN EDUCATIVA CIUDAD DE CARTAGO Nit. 836000146-1 Resolución de aprobación No.1669 del 3 Sep./2002	
	Pruebas Icfes Institucionales	
	Página 4 de 4	CÓDIGO: 250.4.10.01
	VERSION 1	Fecha de Aprobación: 09/09/2011

Grado 1° – Sociales – Diana Carolina Rendón

1. Elije la opción con el nombre que mejor representa la imagen.

- a) Hermanos
- b) Tío
- c) Abuelos
- d) Familia



2. Elije la opción con el nombre que mejor representa la imagen.

- a) Padres
- b) Abuelos
- c) Tíos
- d) Hermanas



3. Elije la opción con el nombre que mejor representa la imagen.

- a) Madre
- b) Primas
- c) Familia
- d) Hermanos



4. Elije la opción con el nombre que mejor representa la imagen.

- a) Abuelo
- b) Tía
- c) Hijo
- d) Bebe



5. Elije la opción con el nombre que mejor representa la imagen.

- a) Primo
- b) Mamá
- c) Familia
- d) Hermana



Imágenes tomadas de: <https://www.goodreads.com/book/show/55073451-mi-familia>