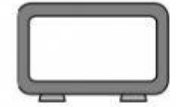
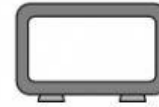


2 ¿Cuánto tiempo ha pasado? Observa los relojes y calcula.

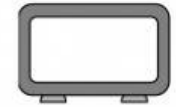
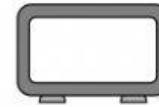


3 Piensa y resuelve. Representa las horas en los relojes digitales.

- Un grupo de excursionistas comenzó su paseo a las 7 y cuarto de la mañana y terminó a las 8 y diez de la tarde. ¿Cuánto tiempo duró su excursión?



- Luis empezó a estudiar a las 9 menos cinco. Estuvo cinco horas y veinticinco minutos. ¿A qué hora terminó?



- Marta llegó a su casa a las 9 menos veinte de la noche. Salió por la mañana a las 7 y cinco. ¿Cuánto tiempo estuvo fuera de casa?

