















FÍSICA Y QUÍMICA 3º E.S.O. T1- Material de Laboratorio

Localiza en las imágenes el **material de VIDRIO** de laboratorio que figura en la columna derecha:

			TUBO REFRIGERANTE
			MATRAZ ERLLENMEYER
			MATRAZ KITASATO
			MATRAZ AFORADO
			MATRAZ FONDO REDONDO
			PIPETA
			BURETA
			PROBETA
			TUBO DE ENSAYO
			EMBUDO
			EMBUDO DE DECANTACIÓN
			VASO DE PRECIPITADOS



FÍSICA Y QUÍMICA 3º E.S.O. T1- Material de Laboratorio

Localiza en las imágenes el **material de laboratorio** que figura en la columna derecha:

			SOPORTE
			GRADILLA
			ASPIRADOR DE PIPETA
			MORTERO CON PISTILO
			DOBLE NUEZ
			MECHERO BUNSEN
			MECHERO DE ALCOHOL
			CÁPSULA DE PORCELANA
			FRASCO LAVADOR (PISETA)
			PINZA DE MADERA
			ESCOBILLA DE LABORATORIO
			PINZA DE LABORATORIO