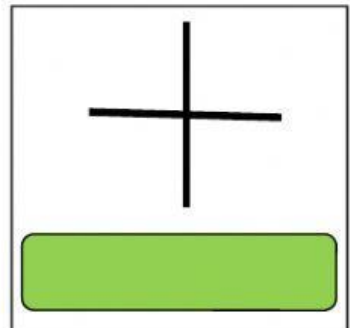
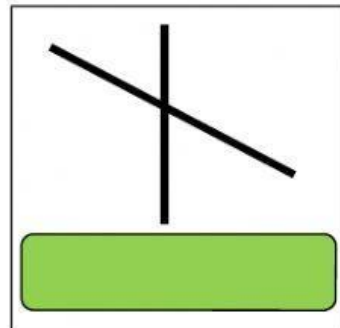
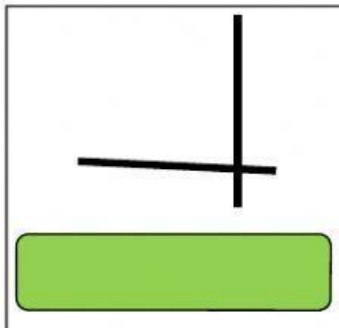
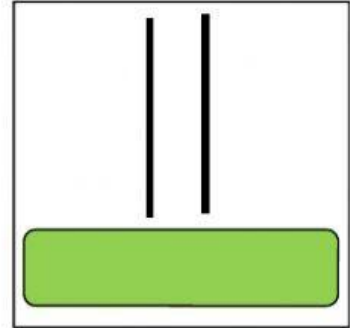
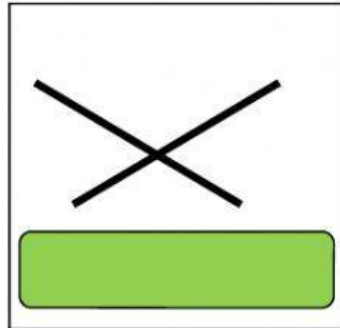
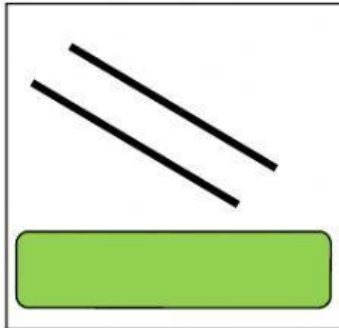


RECTAS Y ÁNGULOS

Elige la respuesta correcta para decir cómo son estas rectas:



Completa con estas palabras las frases posteriores

recto

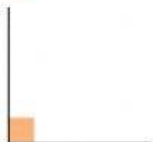
agudo

obtuso

90°



Este ángulo es un ángulo



Este ángulo es un ángulo



Este ángulo es un ángulo

Un ángulo recto mide

Elige la respuesta correcta:

Los ángulos mayores de 0° y menores de 90° se llaman

Los ángulo mayores de 90° y menores de 180° se llaman

El ángulo que mide 90° se llama

Dos rectas que nunca se cruzan se llaman

Dos rectas que se cruzan se llaman

Dos rectas que se cruzan y forman 4 ángulos de 90° se llaman

Traslada por orden los ángulos al recuadro correspondiente



ÁNGULOS AGUDOS	ÁNGULOS RECTOS	ÁNGULOS OBTUSOS