

LEMBAR EVALUASI

Nama:



Kompetensi Dasar:

3.4. Menjelaskan skala melalui denah

4.4. Menyelesaikan masalah yang berkaitan dengan skala pada denah

Indikator Pencapaian Kompetensi:

3.4.1. Menyimpulkan definisi skala melalui denah (C5)

4.4.1. Membuat denah rumah sesuai dengan skala (C6)


BERLATIH...




1 Perbandingan jarak sebenarnya dengan jarak yang ada pada peta adalah

2 Jarak dua kota A dan Kota B adalah 150 km. Jarak pada peta kedua kota tersebut 3 cm. Maka, skala peta tersebut adalah...

3 Jarak dua kota pada peta 4 cm. Skala peta tersebut 1: 200.000. Maka, jarak sebenarnya dua kota tersebut adalah...

4  Perbandingan panjang penghapus dan pisil adalah...


15 cm 3 cm

5  Perbandingan berat bola tenis dan bola basket adalah...

800 gr 80 gr

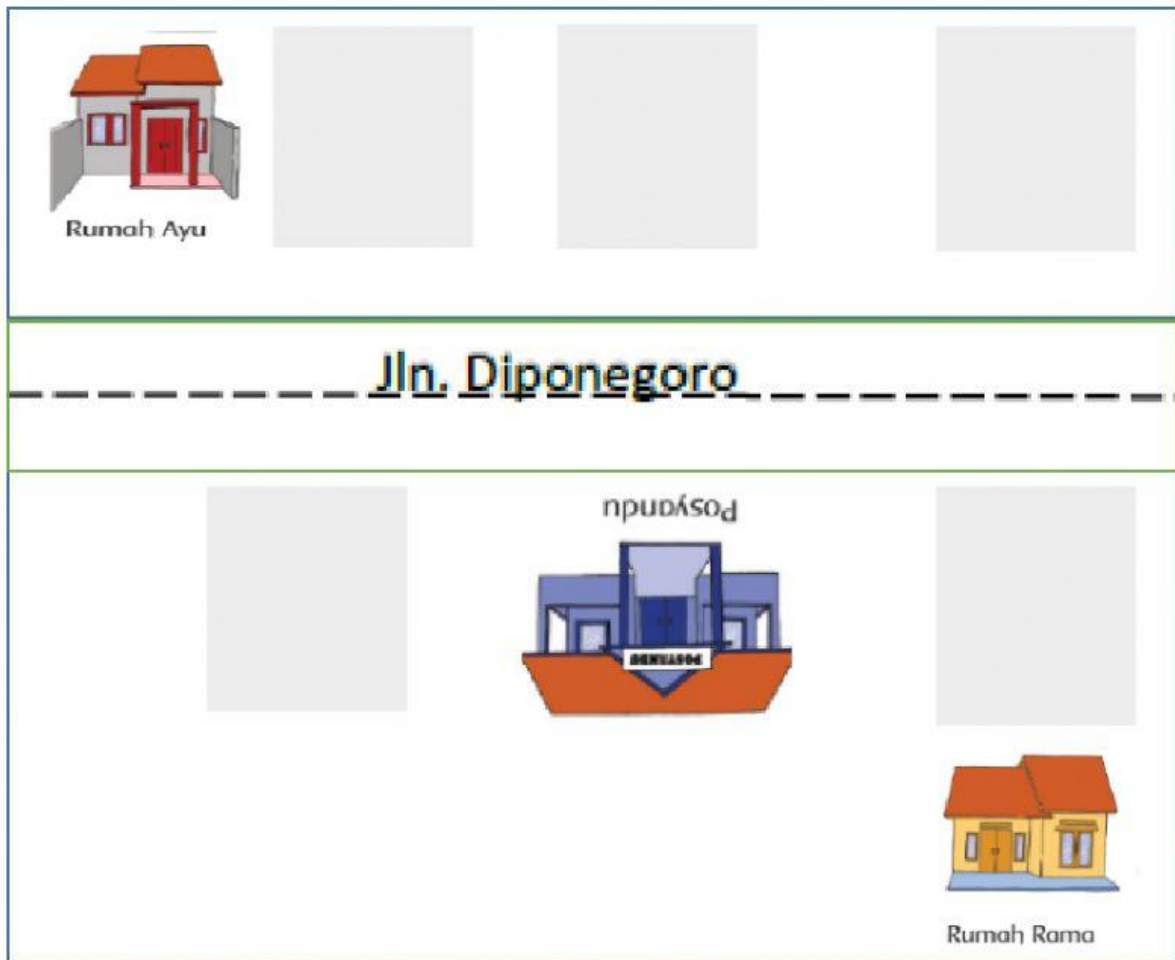
MARI MEMBUAT DENAH RUMAH

Buatlah denah
sesuai dengan
petunjuk di
samping!



KETERANGAN:

1. Rumah Siti terletak di sebelah utara, di ujung kiri Jalan Diponegoro.
2. Rumah Adi terletak di depan Rumah Siti, di belakang rumah Rama.
3. Rumah Bayu terletak di sebelah kiri Rumah Ayu.
4. Toko terletak di sebelah barat Posyandu
5. Musholla ada di depan Posyandu, persis di samping kanan rumah Siti.



Rumah Siti



Toko



Rumah Bayu



Mushalla



Rumah Adi