

Volume Bangun Datar

Sisi Ruang

Sebelum mengerjakan kuis, pahami video pembelajaran terlebih dahulu!

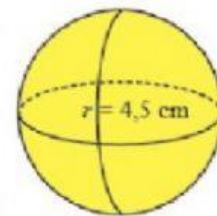
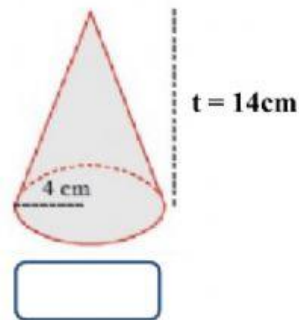
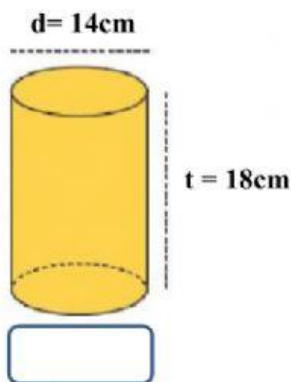
Video Pembelajaran

<https://youtu.be/QZlr49NRV8w>

Kuis 1

Pilihlah jawaban yang!

3. Tentukan volume bangun di bawah ini!



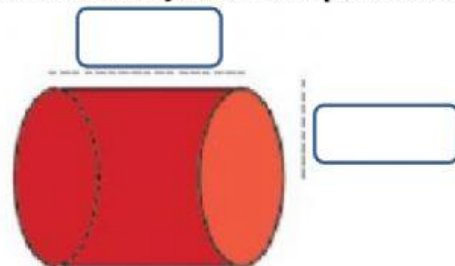
d. 318.8cm

c. 821.8cm

b. 388.1cm

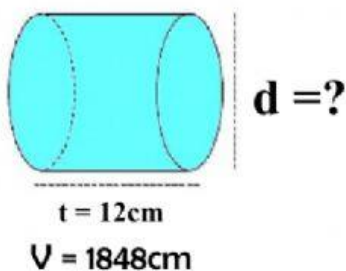
a. 381.8cm

2. Pindahkan jawaban pada kotak kosong!

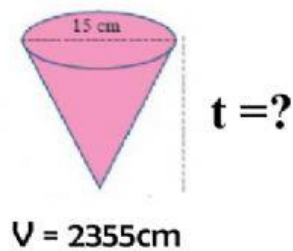


$$V = 324\pi$$

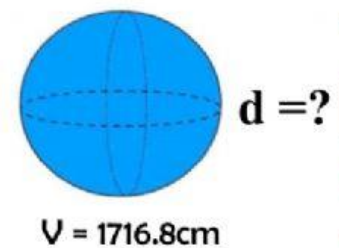
1. Tariklah garis pada jawaban yang benar!



14 cm



10 cm



14 cm