

LKPD INFORMATIKA

KELAS VII

Mengenai Perangkat Keras

NAMA :

KELAS/ABSEN :

Berilah nama dari masing-masing PERANGKAT INPUT berikut, dengan cara geser nama perangkat sesuai gambar ke dalam kotak warna merah!

MOUSE

JOYSTIC

BARCODE

SCANNER

KEYBOARD



LKPD INFORMATIKA KELAS VII

Berilah nama dari masing-masing **PERANGKAT PROSES** berikut, dengan cara geser nama perangkat sesuai gambar ke dalam kotak warna merah!

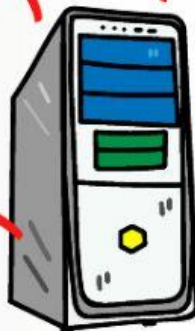
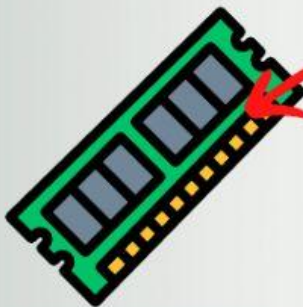
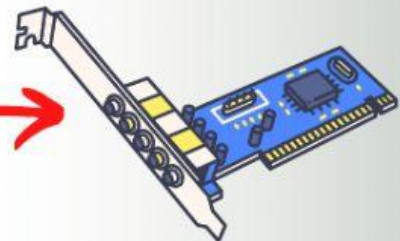

C P U

LANDCARD

PROSESOR

HARDISK

R A M



LKPD INFORMATIKA KELAS VII

Berilah nama dari masing-masing **PERANGKAT OUTPUT** berikut, dengan cara geser nama perangkat sesuai gambar ke dalam kotak warna merah!

HEAD SET

LCD

PRINTER

SPEAKER

MONITOR

