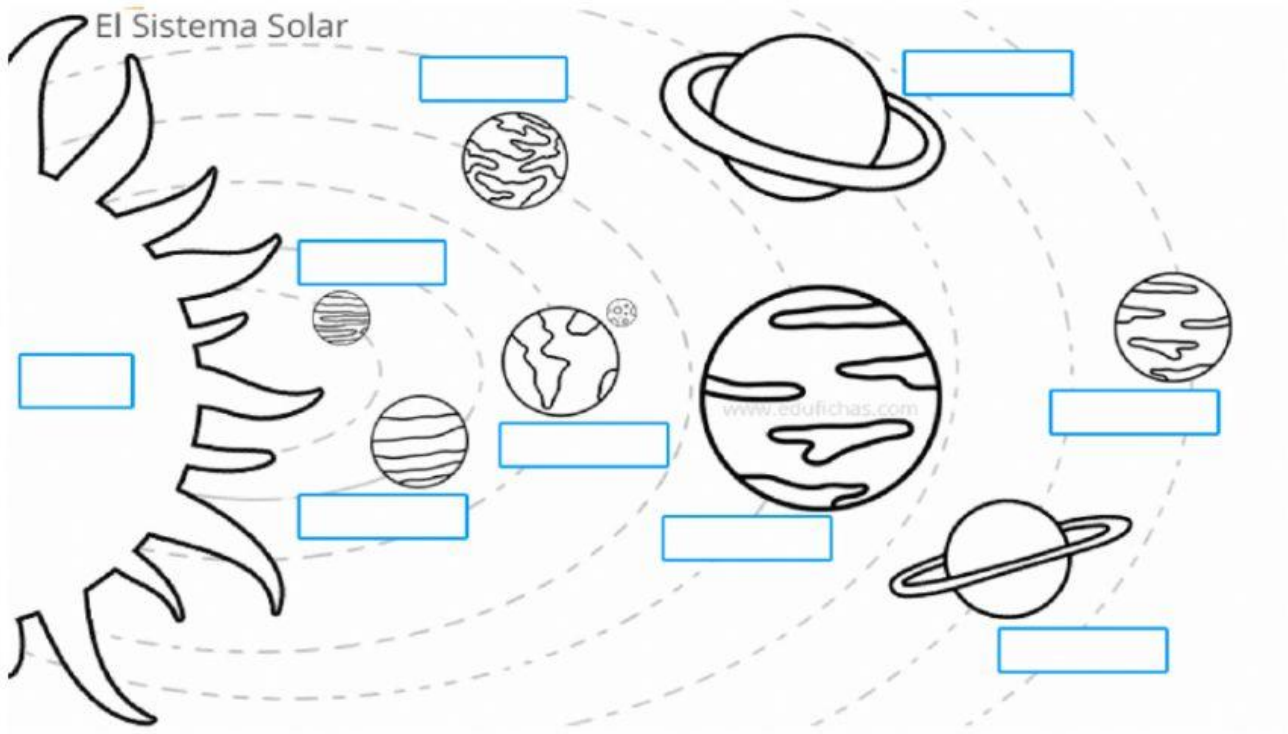


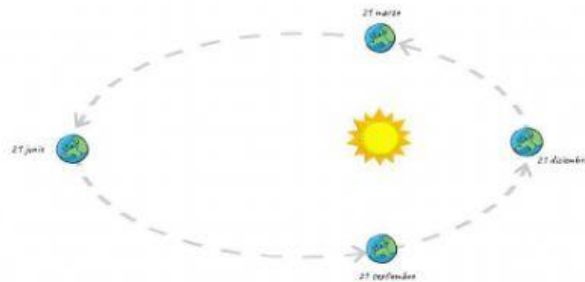
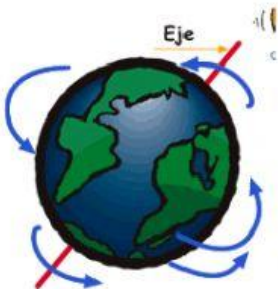
## EVALUACIÓN DE CIENCIAS NATURALES.

NOMBRE Y APELLIDO:

**UBICAR LOS NOMBRES DONDE CORRESPONDE:**



**COLOCAR EN CADA IMAGEN, EL NOMBRE DEL MOVIMIENTO QUE REALIZA LA TIERRA.**



LEER Y UNIR CON FLECHAS, PARA COMPLETAR LA ORACIÓN:

EL MOVIMIENTO DE **ROTACIÓN** DE LA TIERRA DA ORIGEN A...

...LAS ESTACIONES.

LA TIERRA TARDA EN GIRAR SOBRE SÍ MISMA...

...365 DÍAS.

EL MOVIMIENTO DE **TRASLACIÓN** DE LA TIERRA DA ORIGEN A

...EL DÍA Y LA NOCHE.

LA TIERRA TARDA EN GIRAR ALREDEDOR DEL SOL...

...24 HORAS.

UNIR LAS IMÁGENES CON LA FASE DE LA LUNA QUE CORRESPONDE:



LUNA LLENA



CUARTO  
MENGUANTE



CUARTO  
CRECIENTE



LUNA NUEVA

OBSERVAMOS LAS DOS IMÁGENES. A QUÉ MOMENTO DEL DÍA CORRESPONDE:

