

ESCOLA: _____


NOME: _____ DATA: ____/____/____

SISTEMA MONETÁRIO


1-OBSERVE AS QUANTIAS E MARQUE O VALOR CORRETO.




() 35 REAIS
() 15 REAIS
() 25 REAIS



() 10 REAIS
() 9 REAIS
() 11 REAIS



() 15 REAIS
() 10 REAIS
() 12 REAIS



() 4 REAIS
() 5 REAIS
() 3 REAIS

2-OBSERVE AS QUANTIAS QUE SOFIA E PEDRO TÊM E RESPONDA AS QUESTÕES.



A) QUANTO SOFIA TEM?



B) QUANTO PEDRO TEM?

C) QUEM TEM MAIS?

D) QUANTO SOFIA TEM A MAIS?