



Institución Educativa Privada  
"Leónidas Yerovi"

## Examen Virtual Septiembre 2022

# QUÍMICA

Nombres y Apellidos : ..... Fecha : .....

Grado : 4to

Nivel : Secundaria

Curso : Química

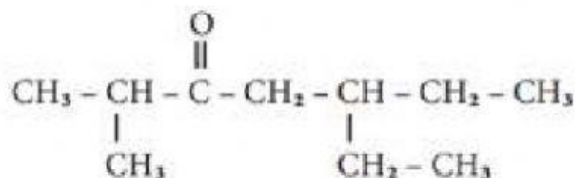
1) ¿Cuál es el nombre de la siguiente estructura?

- a) 3 metilciclo Heptano
- b) 2 metil heptanal
- c) 3 - metil Heptanal
- d) 3 - etil heptanal



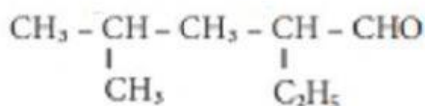
2) ¿Cuál es el nombre del siguiente Compuesto?

- a) 2 metil - 5 etil - 3 heotanona
- b) 5 etil - 2 metil - 3 heptanona
- c) 5 etil - 2 metil - 3 hexanona
- d) 5,2 dimetil - 3 heptanona

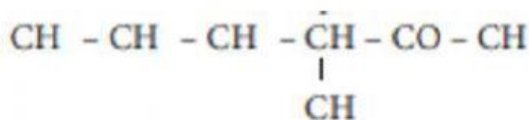


3) Nombra el siguiente compuesto

Rpta:



4) Señala el Nombre del Compuesto



- a) 3 - metil - 4 - hexanol
- b) 3 - metil - 2 - hexanona
- c) 3 - metil - 2 - hexanol
- d) 4 - metilhexanona

Profesor : Hitler Hidalgo Ruiz