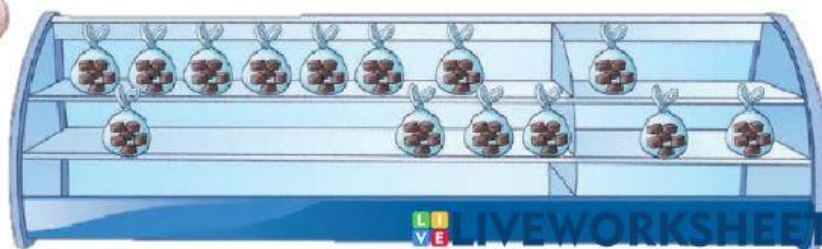


















En parejas, calculen la cantidad de bolsitas de chocolate y los sobrantes. Anoten en la tabla sus planteamientos.

En una tienda de repostería se fabrican chocolates rellenos de nuez. Para su venta, la empleada los coloca en bolsitas (seis chocolates en cada una). La empleada anota todos los días cuántos chocolates se hicieron, cuántas bolsitas se armaron y cuántos chocolates sobraron.¹



Cantidad de chocolates elaborados	Cantidad de bolsitas	Cantidad de chocolates que sobraron
25		
18		
28		
30		
31		
32		
34		
35		

25	$25 \div 6 = 4$	1
18	$18 \div 6 = 3$	
28	$28 \div 6 = 4$	
30	$30 \div 6 = 5$	
31	$31 \div 6 = 5$	
32	$32 \div 6 = 5$	
34	$34 \div 6 = 5$	
35	$35 \div 6 = 5$	

Selecciona las bolsitas y chocolates correctos.


Selecciona las respuestas correctas
DIVISOR

$$\begin{array}{r} 4 \rightarrow \text{COCIENTE} \\ 6 \overline{) 25} \rightarrow \text{DIVIDENDO} \\ \underline{24} \\ 1 \rightarrow \text{RESIDUO} \end{array}$$