


Guia didáctica para 7mo grado de secundaria

Ejercitacion C3: Perímetro de triangulo y cuadrilátero

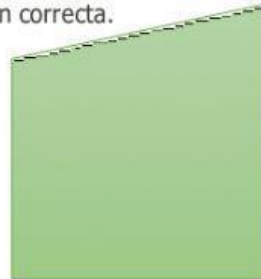
Observa los polígonos y responde según la pregunta, la opción correcta.



A



B



C

¿Cuáles de los polígonos son cuadriláteros?

A. Los polígonos A y C.

☐

B. Los polígonos A y B.

☐

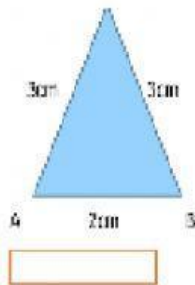
C. Los polígonos B y C.

☐

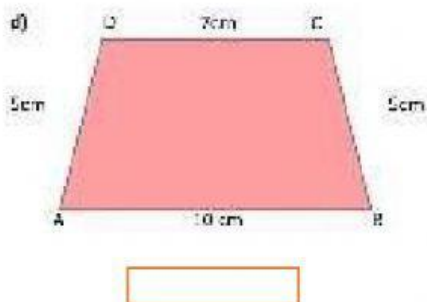
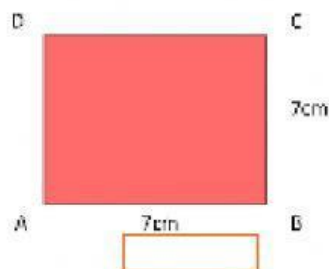
D. Solo el polígono A.

☐

Calcule el perímetro de los siguientes polígonos



b)



d)

