

Họ và tên:.....Lớp:.....


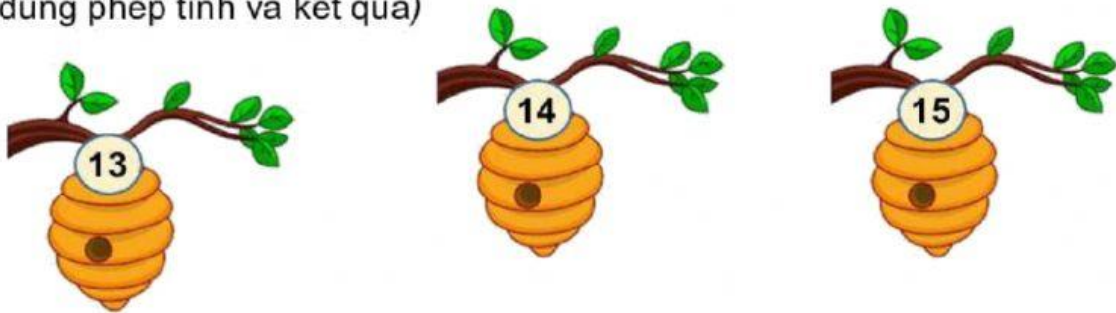


- Luyện tập chung.
- Phép trừ (qua 10) trong phạm vi 20.

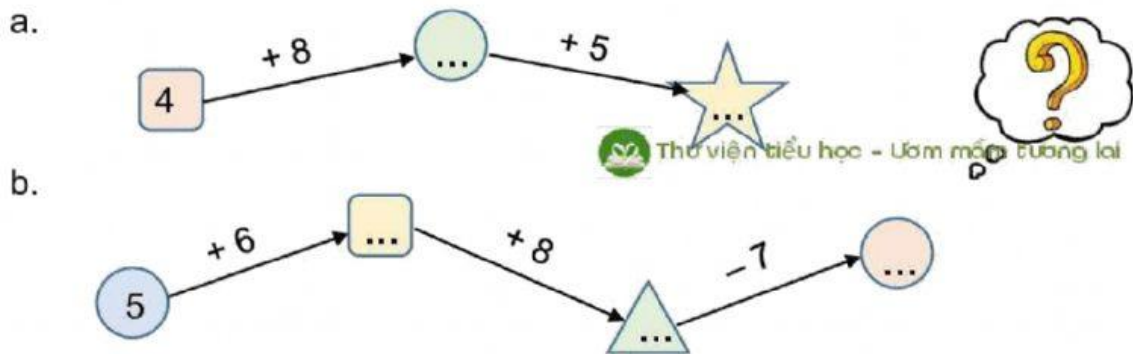


Luyện tập chung

Bài 1. Em hãy giúp các bạn ong về đúng tổ của mình nhé! (bằng cách nối đúng phép tính và kết quả)



Bài 2. Số ?



Thư viện tiểu học - Ươm mầm tương lai

Bài 3. Mẹ nuôi 9 con gà, 5 con vịt và 5 con ngan. Hỏi mẹ nuôi tất cả bao nhiêu con gà, vịt và ngan?

Bài giải

.....

.....

.....



Thư viện tài liệu www.thuvien.tiaviet.com Uơm mầm, ươm tương lai

Bài 4. Tổng của hai số là số lớn nhất có hai chữ số khác nhau, biết một số là 25. Tìm số còn lại.

Bài giải

.....

.....

.....

Bài 5. Hiệu của hai số là 30. Hỏi nếu số bị trừ tăng thêm 5 đơn vị, giữ nguyên số trừ thì hiệu mới là bao nhiêu?

Bài giải

.....

.....

.....

<input type="checkbox"/>		
<input type="checkbox"/>		
<input type="checkbox"/>		