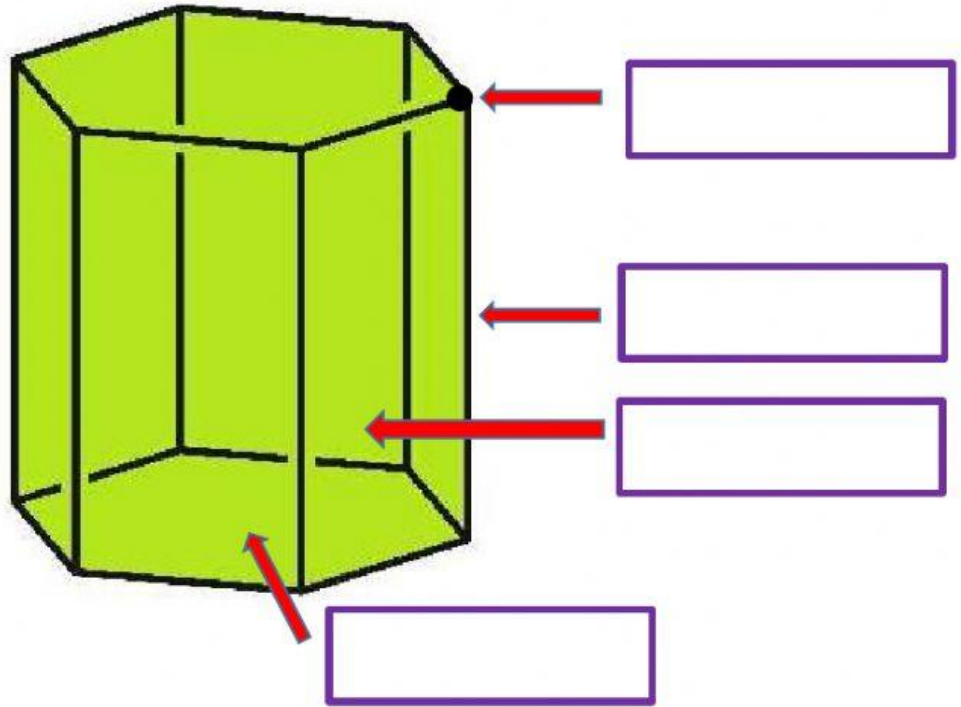


VERIFICAMOS NUESTRO APRENDIZAJE



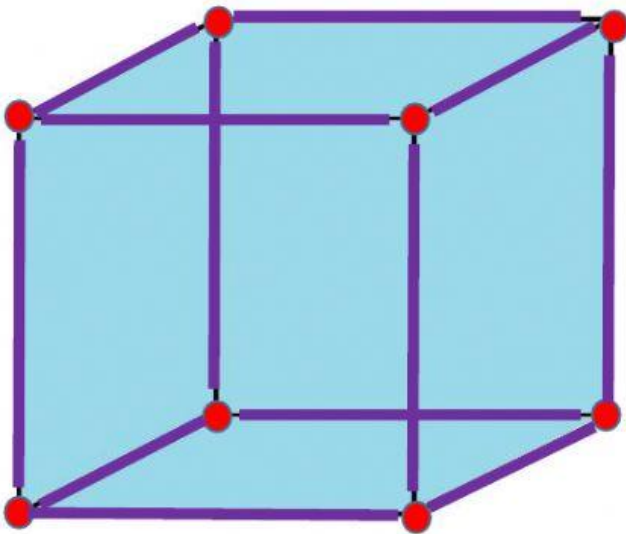
COMPETENCIA: RESUELVE PROBLEMAS DE FORMA, MOVIMIENTO Y LOCALIZACIÓN

1. COMPLETA LOS ELEMENTOS DEL PRISMA MOSTRADO



El nombre del prisma mostrado es

2. OBSERVA LA IMAGEN Y MENCIONA LA CANTIDAD DE VÉRTICES, CARAS Y ARISTAS



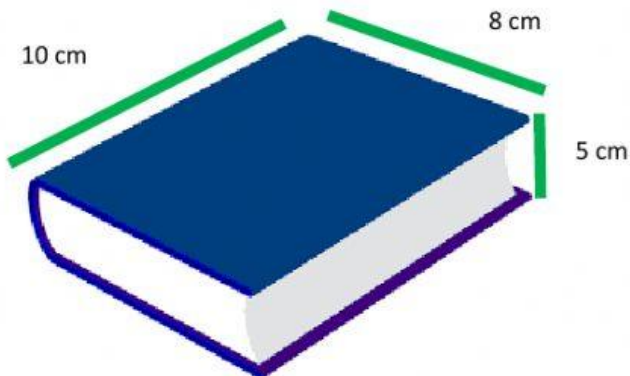
Nuestro cubo tiene:

VÉRTICES (los puntos de color rojos)

ARISTAS (línea de color morado)

CARAS

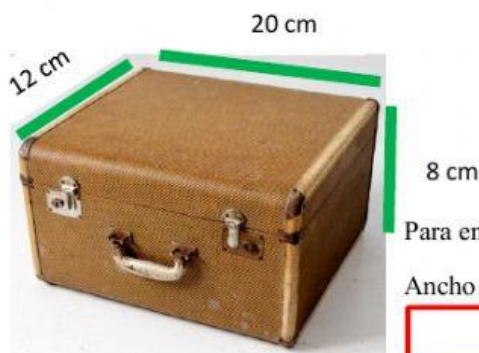
3. OBSERVA LOS OBJETOS Y ENCUENTRA SU VOLUMEN



Para encontrar el VOLUMEN debes multiplicar largo, ancho y altura es decir las 3 medidas, puedes usar tu calculadora

El área de la tapa de la parte de arriba del libro tiene forma

Entonces su área es largo x ancho



Para encontrar el volumen de la maleta multiplica su largo,

Ancho y altura siendo el volumen total de