

EVALUACION BIMESTRAL COMPUTACION

NOMBRE: _____

INICIAL 5 AÑOS

FECHA: 07/10/2022

DOCENTE: MISS PAOLA TORRES



1.- Relaciona los iconos con sus respectivos nombres.




☐ Papelera de reciclaje

☐ Este equipo

☐ Internet Explorer

☐ Explorador de archivos

2.-Este botón  se llama...Marcar tu respuesta

☐


Botón cerrar

☐

Botón Inicio

☐

Botón maximizar

3.-El siguiente botón  me permite...Marcar tu respuesta

☐


Permite cerrar la ventana definitivamente

☐

Oculto la ventana y lo muestra en la barra de tareas

☐

Regresa a la ventana a su estado original

4.-El siguiente botón  me permite...Marcar tu respuesta

☐

Regresa a la ventana a su estado original

☐

Permite cerrar la ventana definitivamente

☐

Oculto la ventana y lo muestra en la barra de tareas

5.-Une con una línea el nombre del siguiente botón .



Maximizar

Cerrar

Minimizar

6.-Marcar : ¿Qué es Windows?

☐

Un programa con juegos divertidos.

☐

Sistema operativo de la computadora.

7. - Marcar tu respuesta:

Son **programas** que facilitan el acceso a las paginas Webs para poder ver y explorar la información.

☐

Paint

☐

Iconos

☐

Navegadores web

8.-Ubica el nombre del siguiente navegador.



Explorer

Chrome

Mozilla

9.-Señala el icono de PAINT



10.-En PAINT podemos...

☐

Pintar

☐

Sumar

☐

Comer