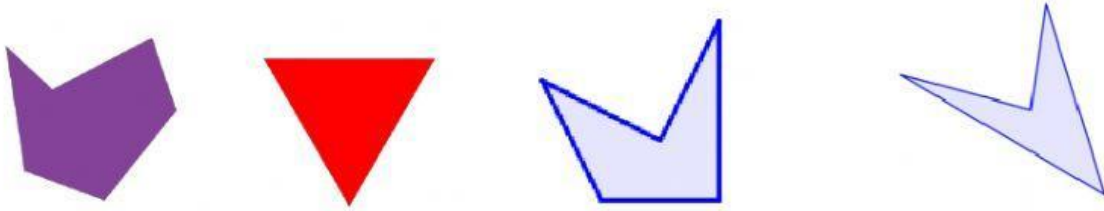


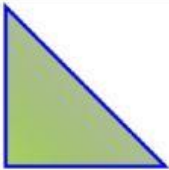

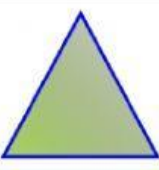
## FIGURAS PLANAS

*Consulta el libro si lo necesitas*



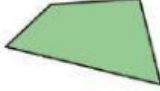


- Escribe el nombre del polígono según su número de lados.



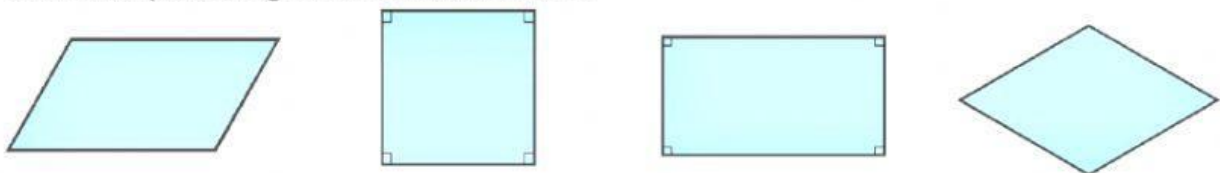
- Clasifica los triángulos según sus lados y sus ángulos.

			
Según sus lados →			
Según sus ángulos →			

- Clasifica los cuadriláteros en paralelogramos, trapecios o trapezoides.

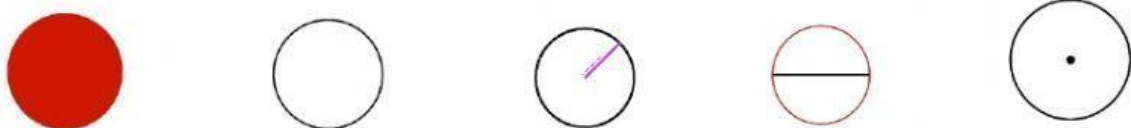
				

- Une cada paralelogramo con su nombre.



CUADRADO	ROMBOIDE	RECTÁNGULO	ROMBO
----------	----------	------------	-------

- Une cada elemento con su dibujo.



CIRCUNFERENCIA	CÍRCULO	DIÁMETRO	RADIO	CENTRO
----------------	---------	----------	-------	--------