



COLEGIO BAUTISTA MIES
Examen de Septiembre



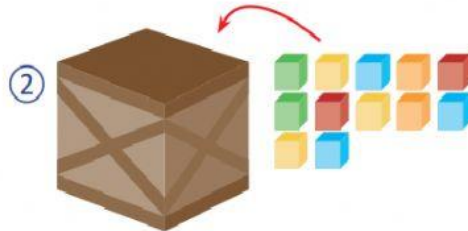
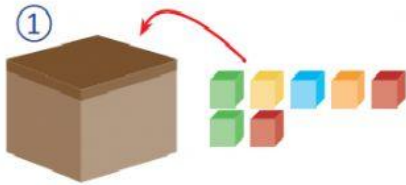
ASIGNATURA: Matemática

GRADO: 1°

SECCIÓN: "A"

Indicación: Lee cada pregunta y responde correctamente.

1- ¿Cuál caja es grande o pequeña?

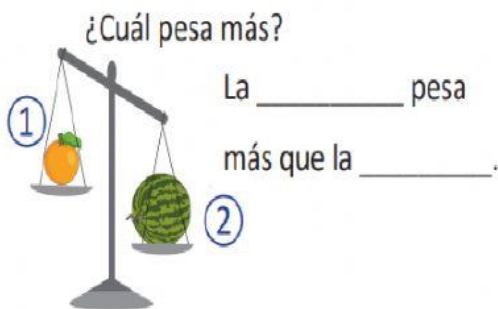


En la caja ① caben _____.

En la caja ② caben _____.

La caja _____ es grande y la caja _____ es pequeña.

2- Responde:



3- Une con una línea recta cada moneda con su valor correspondiente.



5 centavos

25 centavos

1 dólar

10 centavos

1 centavo

4- Marca las monedas correspondientes:

Para formar 30 centavos.



Para formar 50 centavos.



5- ¿Cuánto dinero hay?



centavos



centavos



centavos



centavos



centavos

6- Marca las monedas que necesitas para formar un dólar.



7- Escribe la hora que muestra cada reloj.



en punto.

en punto.

en punto.

en punto.

8- Escribe la hora que muestra cada reloj.

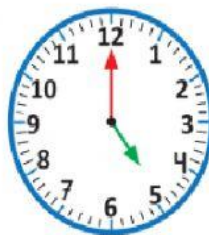


y media.

y media.

y media.

9- Julia sale a jugar todas las tardes a la misma hora. ¿A qué hora sale, según el reloj?



R: _____.

10- Escribe los minutos que indica cada recuadro.

