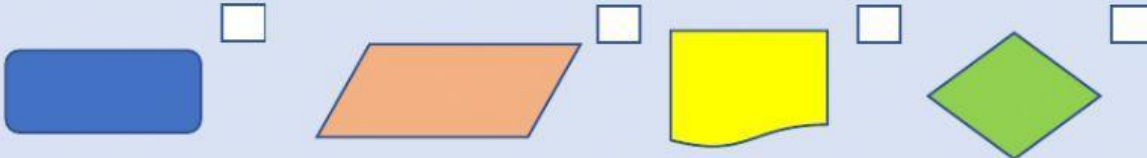
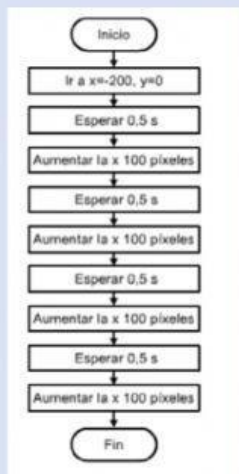


# FICHA REPASO ALGORITMOS

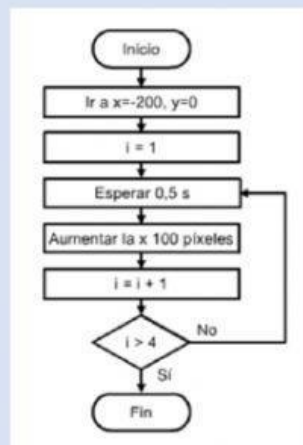
1.-Marca cuál de estas formas indica entrada/salida de datos en un diagrama de flujo



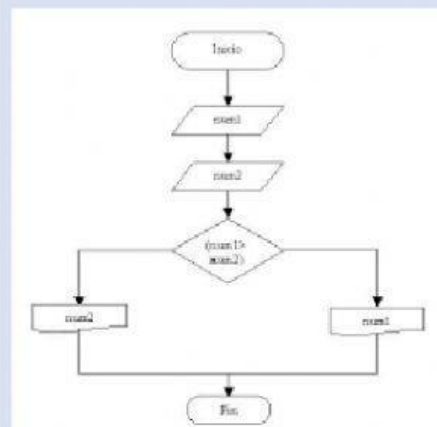
2.-Coloca cada etiqueta en su lugar correspondiente según el tipo de algoritmo



CONSECUENCIAL



SECUENCIAL



ITERATIVO (BUCLE)

3.-De las siguientes características, señala CUATRO que tenga que tener un algoritmo

