

EVALUACIÓN INICIAL JOAQUÍN

5. Coloca los números y calcula.

$$47 + 20$$

$$33 + 16$$

$$62 + 5 + 11$$

6. Coloca los números y SUMA.

$$23 + 48$$

	<input type="text"/>
<input type="text"/>	<input type="text"/>
<hr/>	
	<input type="text"/>

$$53 + 24 + 14$$

	<input type="text"/>
	<input type="text"/>
<input type="text"/>	<input type="text"/>
<hr/>	
	<input type="text"/>

$$7 + 55 + 12$$

	<input type="text"/>
	<input type="text"/>
<input type="text"/>	<input type="text"/>
<hr/>	
	<input type="text"/>

7. Coloca los números y RESTA.

$$38 - 26$$

$$56 - 5$$

$$73 - 23$$

$$89 - 7$$

PROBLEMAS

8. En la biblioteca de clase hay 25 libros de aventuras y 16 de animales.

¿Cuántos libros hay en total?

DATOS: Y

OPERACIÓN:

	<input type="text"/>
<input type="text"/>	<input type="text"/>
<hr/>	
	<input type="text"/>

SOLUCIÓN: En la biblioteca hay _____

9. Mercedes tiene 17 tebeos y ha leído 5. ¿Cuántos tebeos le faltan por leer?

DATOS: Y

OPERACIÓN:

	<input type="text"/>
<input type="text"/>	<input type="text"/>
<hr/>	
	<input type="text"/>

SOLUCIÓN: Le faltan por leer _____

10. En una maceta azul hay 17 rosas; en una verde hay 25 y en otra blanca hay 10. ¿Cuántas rosas hay en total?


DATOS: , y

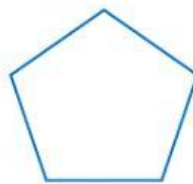
OPERACIÓN:


	<input type="text"/>
	<input type="text"/>
<input type="text"/>	<input type="text"/>
	<hr/>
	<input type="text"/>

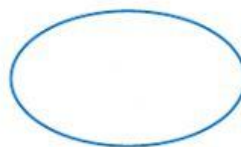
SOLUCIÓN: Hay _____

11. Indica si son líneas abiertas o líneas cerradas.









12. Selecciona la palabra correcta









13. ¿Qué hora es?



Son las _____



Son las _____